



ФИО участника

ОСНОВНОЙ ГОСУДАРСТВЕННЫЙ ЭКЗАМЕН - 2021

Лист №

Резерв-3

# Бланк ответов №2



Регион

Код предмета

Название предмета

Номер КИМ

72

02

МАТЕМАТИК

9061

Перепишите значения полей "Регион", "Код предмета", "Название предмета", "Номер КИМ" из Бланка ответов №1.

Отвечая на задания с развернутым ответом, пишите аккуратно и разборчиво, соблюдая разметку страницы.

Не забудьте указать номер задания, на которое Вы отвечаете.

Условия задания переписывать не нужно.

**ВНИМАНИЕ!** Все бланки и листы с контрольными измерительными материалами рассматриваются в комплекте. Заполнять гелевой ручкой черными чернилами.

Заполняется экспертом!

20	21	22	23	24	25
0-2	0-2	0-2	0-2	0-2	0-2

## СПРАВОЧНЫЕ МАТЕРИАЛЫ ПО МАТЕМАТИКЕ

### АЛГЕБРА

- Формула корней квадратного уравнения:

$$x = \frac{-b \pm \sqrt{D}}{2a}, \text{ где } D = b^2 - 4ac.$$

- Если квадратный трехчлен  $ax^2 + bx + c$  имеет два корня  $x_1$  и  $x_2$ , то

$$ax^2 + bx + c = a(x - x_1)(x - x_2);$$

если квадратный трехчлен  $ax^2 + bx + c$  имеет единственный корень  $x_0$ , то

$$ax^2 + bx + c = a(x - x_0)^2.$$

- Формула  $n$ -го члена арифметической прогрессии ( $a_n$ ), первый член которой равен  $a_1$  и разность равна  $d$ :

$$a_n = a_1 + d(n - 1).$$

- Формула суммы первых  $n$  членов арифметической прогрессии  $S_n = \frac{(a_1 + a_n)n}{2}$ .

- Формула  $n$ -го члена геометрической прогрессии ( $b_n$ ), первый член которой равен  $b_1$ , а знаменатель равен  $q$ :

$$b_n = b_1 \cdot q^{n-1}$$

- Формула суммы первых  $n$  членов геометрической прогрессии  $S_n = \frac{(q^n - 1)b_1}{q - 1}$ .

**Таблица квадратов двузначных чисел**

		Единицы									
		0	1	2	3	4	5	6	7	8	9
Десятки	1	100	121	144	169	196	225	256	289	324	361
	2	400	441	484	529	576	625	676	729	784	841
	3	900	961	1024	1089	1156	1225	1296	1369	1444	1521
	4	1600	1681	1764	1849	1936	2025	2116	2209	2304	2401
	5	2500	2601	2704	2809	2916	3025	3136	3249	3364	3481
	6	3600	3721	3844	3969	4096	4225	4356	4489	4624	4761
	7	4900	5041	5184	5329	5476	5625	5776	5929	6084	6241
	8	6400	6561	6724	6889	7056	7225	7396	7569	7744	7921
	9	8100	8281	8464	8649	8836	9025	9216	9409	9604	9801

### ГЕОМЕТРИЯ

- Сумма углов выпуклого  $n$ -угольника равна  $180^\circ(n - 2)$ .
- Радиус  $r$  окружности, вписанной в правильный треугольник со стороной  $a$ , равен  $\frac{\sqrt{3}}{6}a$ .

- Радиус  $R$  окружности, описанной около правильного треугольника со стороной  $a$ , равен  $\frac{\sqrt{3}}{3}a$ .

- Для треугольника  $ABC$  со сторонами  $AB = c$ ,  $AC = b$ ,  $BC = a$ :

$$\frac{a}{\sin A} = \frac{b}{\sin B} = \frac{c}{\sin C} = 2R,$$

где  $R$  – радиус описанной окружности.

- Для треугольника  $ABC$  со сторонами  $AB = c$ ,  $AC = b$ ,  $BC = a$ :

$$c^2 = a^2 + b^2 - 2ab \cos C.$$

- Формула длины  $l$  окружности радиуса  $R$ :

$$l = 2\pi R.$$

- Формула длины  $l$  дуги окружности радиуса  $R$ , на которую опирается центральный угол в  $\varphi$  градусов:

$$l = \frac{2\pi R \varphi}{360}.$$

- Формула площади  $S$  параллелограмма со стороной  $a$  и высотой  $h$ , проведённой к этой стороне:  $S = ah$ .

- Формула площади  $S$  треугольника со стороной  $a$  и высотой  $h$ , проведённой к этой стороне:

$$S = \frac{1}{2}ah.$$

- Формула площади  $S$  трапеции с основаниями  $a$ ,  $b$  и высотой  $h$ :

$$S = \frac{a+b}{2}h.$$

- Формула площади  $S$  круга радиуса  $R$ :  $S = \pi R^2$ .

**Основной государственный экзамен  
по МАТЕМАТИКЕ**

**Инструкция по выполнению работы**

Экзаменационная работа состоит из двух частей, включающих в себя 25 заданий. Часть 1 содержит 19 заданий, часть 2 содержит 6 заданий с развёрнутым ответом.

На выполнение экзаменационной работы по математике отводится 3 часа 55 минут (235 минут).

Ответы к заданиям 7 и 13 запишите в бланк ответов № 1 в виде одной цифры, которая соответствует номеру правильного ответа.

Для остальных заданий части 1 ответом является число или последовательность цифр. Ответ запишите в поле ответа в тексте работы, а затем перенесите в бланк ответов № 1. Если получилась обыкновенная дробь, ответ запишите в виде десятичной.

Решения заданий части 2 и ответы к ним запишите на бланке ответов № 2. Задания можно выполнять в любом порядке. Текст задания переписывать не надо, необходимо только указать его номер.

Все бланки заполняются яркими чёрными чернилами. Допускается использование гелевой или капиллярной ручки.

Сначала выполняйте задания части 1. Начать советуем с тех заданий, которые вызывают у Вас меньше затруднений, затем переходите к другим заданиям. Для экономии времени пропускайте задание, которое не удаётся выполнить сразу, и переходите к следующему. Если у Вас останется время, Вы сможете вернуться к пропущенным заданиям.

При выполнении части 1 все необходимые вычисления, преобразования выполняйте в черновике. **Записи в черновике, а также в тексте контрольных измерительных материалов не учитываются при оценивании работы.**

Если задание содержит рисунок, то на нём непосредственно в тексте работы можно выполнять необходимые Вам построения. Рекомендуем внимательно читать условие и проводить проверку полученного ответа.

При выполнении работы Вы можете воспользоваться справочными материалами, выданными вместе с вариантом КИМ, и линейкой.

Баллы, полученные Вами за выполненные задания, суммируются. Постарайтесь выполнить как можно больше заданий и набрать наибольшее количество баллов.

Для прохождения аттестационного порога необходимо набрать не менее 8 баллов, и которых не менее 2 баллов должны быть получены за решение заданий по геометрии (задания 15-29, 23-25).

После завершения работы проверьте, чтобы ответ на каждое задание в бланках ответов № 1 и № 2 был записан под правильным номером.

**Желаем успеха!**

**Часть 1**

**Ответами к заданиям 1–19 являются, число или последовательность цифр, которые следует записать в БЛАНК ОТВЕТОВ № 1 справа от номера соответствующего задания, начиная с первой клеточки. Если ответом является последовательность цифр, то запишите её без пробелов, запятых и других дополнительных символов. Каждый символ пишете в отдельной клеточке в соответствии с приведёнными в бланке образцами.**

**Прочитайте внимательно текст и выполните задания 1–5.**

Хозяин дачного участка строит баню с парным отделением. Парное отделение имеет размеры: длина 3,5 м, ширина 2,2 м, высота 2 м. Окон в парном отделении нет, для доступа внутрь планируется дверь шириной 60 см, высота дверного проёма 1,8 м. Для прогрева парного отделения можно использовать электрическую или дровяную печь. В таблице представлены характеристики трёх печей.

Номер печи	Тип	Объём помещения (куб. м)	Масса (кг)	Стоимость (руб.)
1	дровяная	8–12	40	18000
2	дровяная	10–16	48	19500
3	электрическая	9–15,5	15	15000

Для установки дровяной печи дополнительных затрат не потребуется. Установка электрической печи потребует подведения специального кабеля, что обойдётся в 6500 руб.

**1**

Установите соответствие между массами и номерами печей. Заполните таблицу, в бланк ответов перенесите последовательность трёх цифр без пробелов, запятых и других дополнительных символов.

Объём (куб. м)	15	40	48
Номер печи			

Ответ: \_\_\_\_\_.

2 Найдите суммарную площадь стен парного отделения строящейся бани (без площади двери). Ответ дайте в квадратных метрах.

Ответ: \_\_\_\_\_.

3 На сколько рублей покупка дровяной печи, подходящей по объему парного отделения, обойдется дороже электрической без учёта установки?

Ответ: \_\_\_\_\_.

4 На дровяную печь, масса которой 40 кг, сделали скидку 10%. Сколько рублей стала стоить печь?

Ответ: \_\_\_\_\_.

5 Хозяин выбрал дровяную печь (рис. 1). Чертёж передней панели печи показан на рисунке 2.



Рис. 1

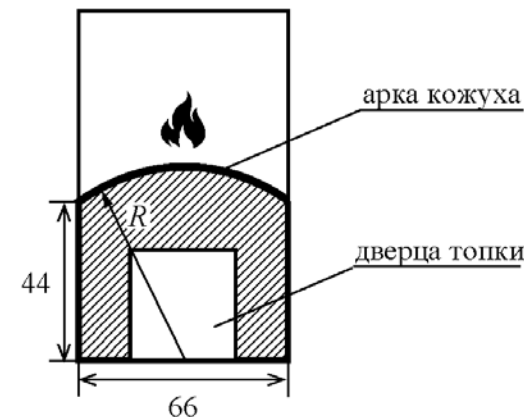


Рис. 2

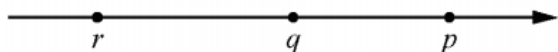
Печь снабжена кожухом вокруг дверцы топки. Верхняя часть кожуха выполнена в виде арки, приваренной к передней стенке печки по дуге окружности с центром в середине нижней части кожуха (см. рис. 2). Для установки печки хозяину понадобилось узнать радиус закругления арки  $R$ . Размеры кожуха в сантиметрах показаны на рисунке. Найдите радиус закругления арки в сантиметрах.

Ответ: \_\_\_\_\_.

6 Найдите значение выражения  $1,6 \cdot 5,1$ .

Ответ: \_\_\_\_\_.

**7** На координатной прямой отмечены точки  $p$ ,  $q$  и  $r$ .



Какая из разностей  $p - r$ ,  $p - q$ ,  $r - q$  отрицательна?

- 1)  $p - r$       2)  $p - q$       3)  $r - q$       4) ни одна из них

Ответ:

**8** Найдите значение выражения  $\frac{y^4}{4}$  при  $y = \sqrt{8}$ .

Ответ: \_\_\_\_\_.

**9** Решите уравнение  $10(x - 9) = 7$ .

Ответ: \_\_\_\_\_.

**10** В фирме такси в данный момент свободно 12 машин: 3 черных, 3 желтых и 6 зеленых. По вызову выехала одна из машин, случайно оказавшаяся ближе всего к заказчику. Найдите вероятность того, что к ней придет жёлтое такси.

Ответ: \_\_\_\_\_.

**11** Установите соответствие между функциями и их графиками.

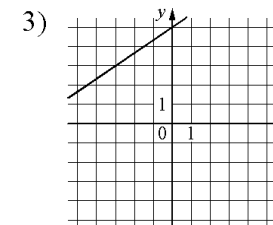
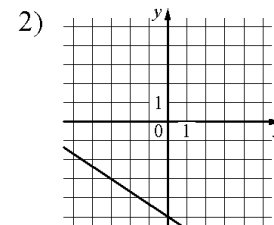
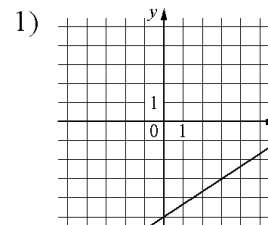
ФУНКЦИИ

А)  $y = -\frac{2}{3}x - 5$

Б)  $y = \frac{2}{3}x + 5$

В)  $y = \frac{2}{3}x - 5$

ГРАФИКИ



В таблице под каждой буквой укажите соответствующий номер.

Ответ: 

А	Б	В

**12** Чтобы перевести значение температуры по шкале Цельсия в шкалу Фаренгейта, пользуются формулой  $t_F = 1,8t_C + 32$ , где  $t_C$  — температура в градусах Цельсия,  $t_F$  — температура в градусах Фаренгейта. Скольким градусам по шкале Фаренгейта соответствует  $-90$  градусов по шкале Цельсия?

Ответ: \_\_\_\_\_.

**13** Укажите решение неравенства

$$x^2 - 25 > 0$$

1)  $(-\infty; +\infty)$

3)  $(-5; 5)$

2) нет решений


4)  $(-\infty; -5) \cup (5; +\infty)$

Ответ:

**14** Грузовик перевозит партию щебня массой 210 тонн, ежедневно увеличивая норму перевозки на одно и то же число тонн. Известно, что за первый день было перевезено 2 тонны щебня. Определите, сколько тонн щебня было перевезено за девятый день, если вся работа была выполнена за 14 дней.

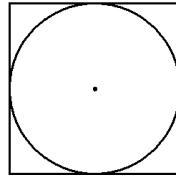
Ответ: \_\_\_\_\_.

- 15 Два катета прямоугольного треугольника равны 14 и 5. Найдите площадь этого треугольника.



Ответ: \_\_\_\_\_.

- 16 Сторона квадрата равна 34. Найдите радиус окружности, вписанной в этот квадрат.



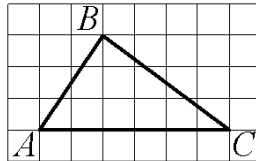
Ответ: \_\_\_\_\_.

- 17 Один из углов равнобедренной трапеции равен  $43^\circ$ . Найдите больший угол этой трапеции. Ответ дайте в градусах.



Ответ: \_\_\_\_\_.

- 18 На клетчатой бумаге с размером клетки  $1 \times 1$  изображён треугольник  $ABC$ . Найдите длину его средней линии, параллельной стороне  $AC$ .



Ответ: \_\_\_\_\_.

- 19 Какие из следующих утверждений верны?

- 1) Любые два равносторонних треугольника подобны.
- 2) В любом прямоугольнике диагонали взаимно перпендикулярны.
- 3) Все диаметры окружности равны между собой.

В ответ запишите номера выбранных утверждений без пробелов, запятых и других символов.

Ответ: \_\_\_\_\_.



**Не забудьте перенести все ответы в бланк ответов №1 в соответствии с инструкцией по выполнению работы. Проверьте, чтобы каждый ответ был записан в строке с номером соответствующего задания.**

**Часть 2**

**При выполнении заданий 20–25 используйте БЛАНК ОТВЕТОВ № 2. Сначала укажите номер задания, а затем запишите его решение и ответ. Пишите чётко и разборчиво.**

- 20 Найдите значение выражения  $39a - 15b + 25$ , если  $\frac{3a - 6b + 4}{6a - 3b + 4} = 7$

- 21 Имеются два сосуда, содержащие 10 кг и 16 кг раствора кислоты различной концентрации. Если их слить вместе, то получим раствор, содержащий 55% кислоты. Если же слить равные массы этих растворов, то полученный раствор будет содержать 61% кислоты. Сколько килограммов кислоты содержится в первом сосуде?

- 22 Постройте график функции

$$y = |x^2 - 4x + 3|.$$

Какое наибольшее число общих точек может иметь график данной функции с прямой, параллельной оси абсцисс?

- 23 Прямая, параллельная стороне  $AC$  треугольника  $ABC$  пересекает стороны  $AB$  и  $BC$  в точках  $M$  и  $N$  соответственно. Найдите  $BN$ , если  $MN = 18$ ,  $AC = 42$ ,  $NC = 40$ .

- 24 В трапеции  $ABCD$  с основаниями  $AD$  и  $BC$  диагонали пересекаются в точке  $P$ . Докажите, что площадь треугольников  $APB$  и  $CPD$  равны.

- 25 В треугольнике  $ABC$  биссектриса угла  $A$  делит высоту, проведённую из вершины  $B$ , в отношении  $25:24$ , считая от точки  $B$ . Найдите радиус окружности, описанной около треугольника  $ABC$ , если  $BC = 14$ .



**Проверьте, чтобы каждый ответ был записан рядом с номером соответствующего задания.**