

Всероссийская олимпиада по технологии
Школьный этап

Номинация «Культура дома и декоративно-прикладное творчество»

7 класс

(Тестовые задания 1-19 оцениваются в 1 балл, задание 20 – в 6 баллов)

1. Восстановите последовательность приготовления чая с лимоном, вписав напротив операции соответствующую цифру

- ___ В каждую чашку положите кружок лимона и сахар по вкусу
- ___ Заварите чай
- ___ Лимон помойте, ошпарьте кипятком, нарежьте кружочками
- ___ Разлейте чай по чашкам

2. Выберите все правильные ответы.

В кулинарии по консистенции различают следующие виды каш:

- а) рассыпчатые каши;
- б) вязкие каши;
- в) кремообразные каши;
- г) жидкие каши.

3. Допишите стадии развития шелкопряда, не подписанные на схеме.



4. Какой овощ не добавляется в борщ?

- а) капуста;
- б) кабачок;
- в) картофель;
- г) чеснок.

5. Впишите правильный ответ.

Это тот предмет гардероба, который в долю секунды превращает вас в девушку с обложки из далеких сороковых годов XX века, эпохи изысканного гламура. Длина данного предмета гардероба доходит до середины икры. О какой юбке идет речь?

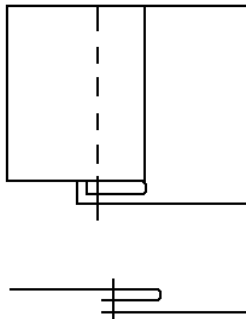
Ответ: _____

6. Выберите правильный ответ.

Выполнение ремонта одежды при помощи переплетения нитей называется:

- а) штопка;
- б) заплата;
- в) аппликация;
- г) штуковка.

7. Определите вид шва и укажите для чего он применяется.



Ответ: _____

8. Текстильные волокна классифицируют (выберите несколько правильных ответов):

- а) по цвету;
- б) по химическому составу;
- в) по строению;
- г) по происхождению;
- д) по свойствам.

9. Вставьте пропущенное слово.

_____ - это способность волокон поглощать из окружающей среды и отдавать в нее водяные пары.

10. Что относится к материалам лоскутной пластики?

- а) бисер;
- б) стеклярус;
- в) пуговицы;
- г) ленты.

11. Выберите правильный ответ.

Вид орнамента, состоящий из прямых и перекрещивающихся линий, полос, зигзагов, кругов т.п., это:

- а) геометрический орнамент;
- б) растительный орнамент;
- в) животный орнамент;
- г) шрифтовой орнамент.

12. Выберите правильный ответ.

К основным цветам относятся:

- а) красный, оранжевый, зелёный;
- б) оранжевый, желтый, синий;
- в) красный, желтый, синий;
- г) красный, желтый, зелёный.

13. Какое минимальное число нитей в раппорте саржевого переплетения?

- а) одна;
- б) две;
- в) три;
- г) четыре.

14. От чего зависит длина стежка в машинной строчке?

- 1) _____
- 2) _____

15. Если машинная строчка петляет снизу, необходимо:

- а) ослабить натяжение верхней нити;
- б) ослабить натяжение нижней нити;
- в) ослабить натяжение верхней и нижней нитей;
- г) усилить натяжение верхней нити.

16. От чего зависит количество ткани, необходимое для изготовления юбки?

Ответ:

- 1) _____
- 2) _____

17. Что обозначает данный символ на ярлыках одежды?



Ответ: _____

18. Расставьте в правильной последовательности этапы выполнения проекта:

	Разработка идей, вариантов
	Выбор ткани, инструментов, приспособлений, оборудования
	Выявление основных требований к изделию
	Анализ идей и выбор лучшего варианта
	Определение задачи и ее формулировка

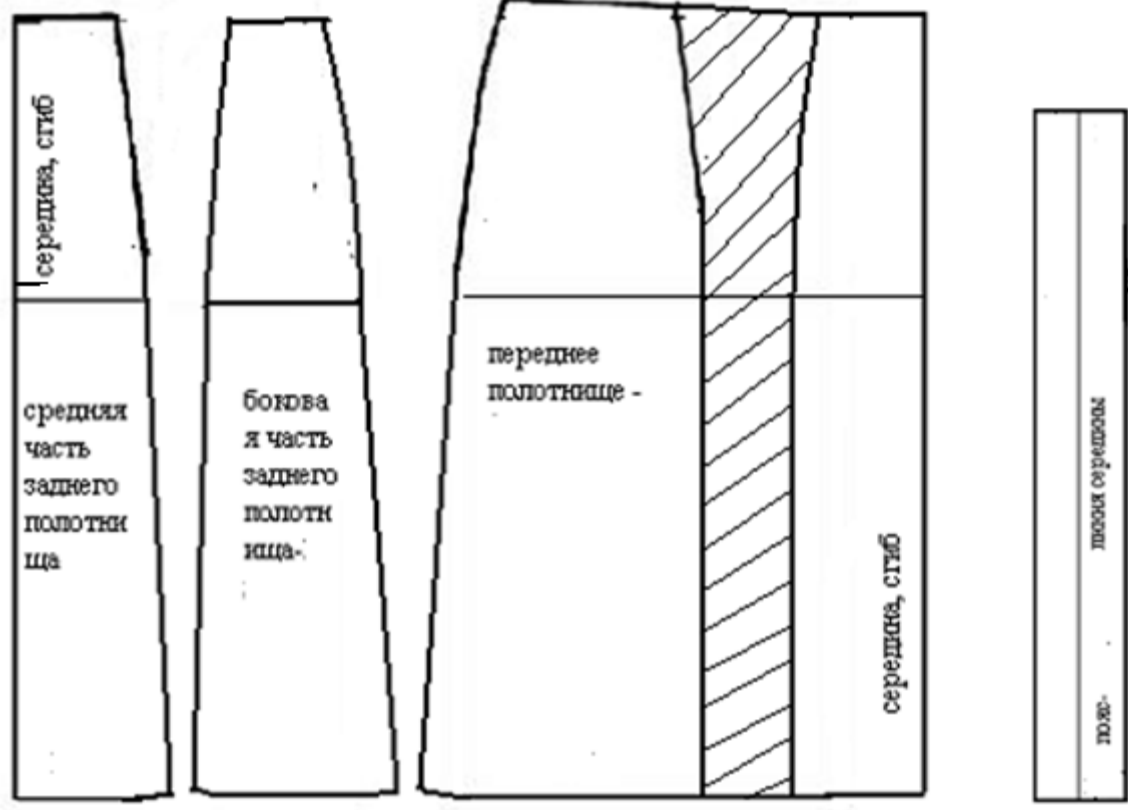
19. В расчет себестоимости юбки необходимо включить стоимость:

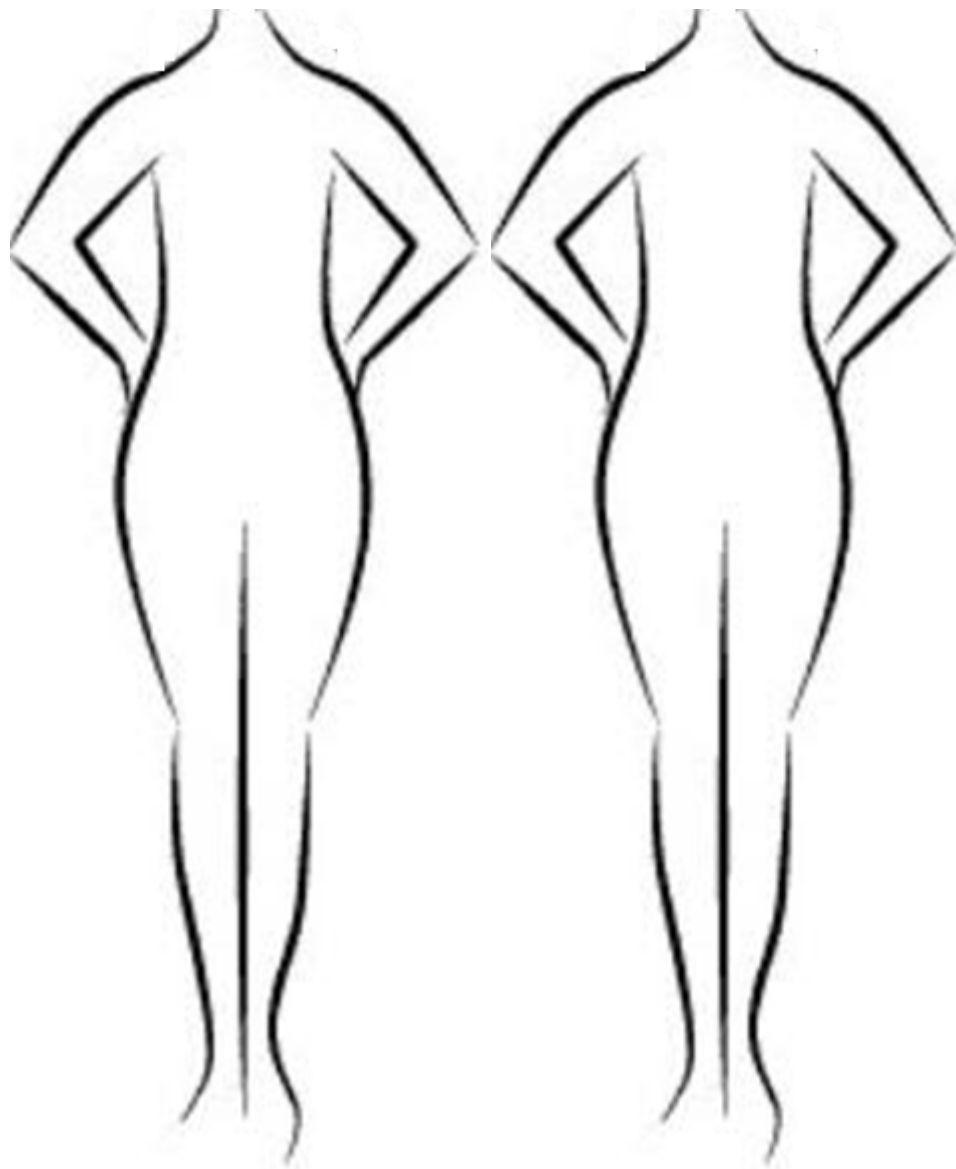
- 1) _____
- 2) _____
- 3) _____

20. Творческое задание.

Вам предложены детали кроя юбки.

1. Стрелками укажите направление нити основы;
2. Определите и подпишите количество деталей кроя;
3. Выполните эскиз изделия, согласно деталям кроя (вид спереди и вид сзади).





Вид спереди

Вид сзади