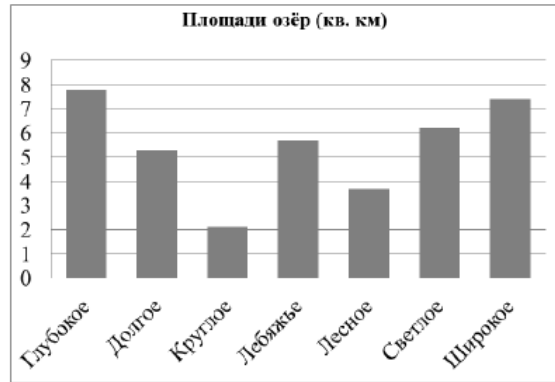


Решение:	
Ответ:	

11. На диаграмме представлены площади нескольких озёр. Пользуясь диаграммой, ответьте на вопросы.



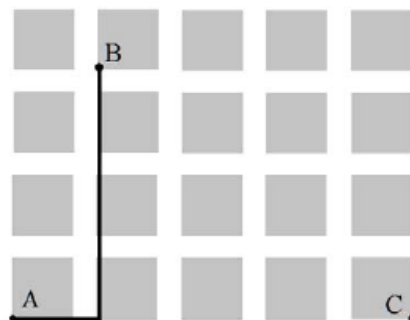
1) Какое озеро занимает пятое место по величине площади среди представленных на диаграмме?

Ответ:	

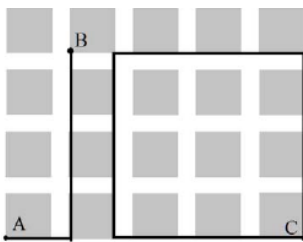
2) Площади двух из представленных озёр различаются втрое. Какие это озёра?

Ответ:	

12. На плане одного из районов города клетками изображены кварталы, каждый из которых имеет форму квадрата со стороной 80 м. Ширина всех улиц в этом районе – 20 м.



Ответы

Номер задания	Правильный ответ
1	45 Должно быть зачтено любое другое число, удовлетворяющее условию.
2	18
3	9,2
4	14 или 14 кг.
5	324
6	8 или 8 минут
7	10 или 10 карандашей
8	900 руб.
9	1975
10	180 руб.
11 пункт 1	Долгое
11 пункт 1	Круглое и Светлое
12 пункт 1	400 м.
12 пункт 2	Должно быть зачтено любое другое решение, удовлетворяющее условию. 
13	4
14	41

Система оценивания проверочной работы

1. Оценивание отдельных заданий

Номер задания	1	2	3	4	5	6	7	8	9	10	11.1	11.2	12.1	12.2	13	14	Итого
Балл	1	1	1	1	1	2	1	1	2	2	1	1	1	1	1	2	20

2. Оценивания выполнения всей работы

Максимальный балл за выполнение работы – **20**.

Таблица перевода баллов в отметки по пятибалльной шкале

Отметка по пятибалльной шкале	«2»	«3»	«4»	«5»
Первичные баллы	0–6	7–10	11–14	15–20