

**Проверочная работа
по МАТЕМАТИКЕ**

4 КЛАСС

Вариант 15

Инструкция по выполнению работы

На выполнение работы по математике даётся 45 минут. Работа содержит 11 заданий.

В заданиях, после которых есть поле со словом «Ответ», запиши ответ в указанном месте.

В задании 5 (пункт 2) и 10 нужно сделать чертёж или рисунок.

В заданиях, после которых есть поле со словами «Решение» и «Ответ», запиши решение и ответ в указанном месте.

Если ты хочешь изменить ответ, то зачеркни его и запиши рядом новый.

При выполнении работы нельзя пользоваться учебниками, рабочими тетрадями, справочниками, калькулятором.

При необходимости можно пользоваться черновиком. Записи в черновике проверяться и оцениваться не будут.

Советуем выполнять задания в том порядке, в котором они даны. Для экономии времени пропускай задание, которое не удаётся выполнить сразу, и переходи к следующему. Постарайся выполнить как можно больше заданий.

Желаем успеха!










1 Найди значение выражения $45 \cdot 4$.

Ответ:																														

2 Найди значение выражения $50 - 20 : (14 - 9)$.

Ответ:																														

3 В магазине продаются кондитерские изделия в пачках. На рисунке показаны цены.

Овсяное печенье.....64 руб. 	Миндальное печенье...74 руб. 	Печенье «Курабье»...131 руб. 
Печенье «Юбилейное»...24 руб. 	Печенье «Мария».....34 руб. 	Зефир.....93 руб. 
Крекеры.....28 руб. 	Слоёные десерты....128 руб. 	Галеты.....46 руб. 

Сколько всего рублей надо заплатить за три пачки миндального печенья и одну пачку галет? Запиши решение и ответ.

Решение:																														
Ответ:																														

- 11 Рита вырезала из бумаги несколько пятиугольников и семиугольников. Всего у вырезанных фигурок 43 вершины. Сколько пятиугольников вырезала Рита?
Запиши решение и ответ.

Решение:	
----------	--

Ответ:	
--------	--