

**Проверочная работа
по ИСТОРИИ**

5 класс

Вариант 20

Инструкция по выполнению работы

На выполнение работы по истории даётся 45 минут. Работа состоит из двух частей и включает в себя 8 заданий. Часть 1 работы содержит задания по истории Древнего мира, в части 2 предложены задания по истории родного края.

Ответы на задания запишите в поля ответов в тексте работы. В случае записи неверного ответа зачеркните его и запишите рядом новый.

При выполнении работы не разрешается пользоваться учебником, рабочими тетрадями и другими справочными материалами.

При необходимости можно пользоваться черновиком. Записи в черновике проверяться и оцениваться не будут.

Советуем выполнять задания в том порядке, в котором они даны. В целях экономии времени пропускайте задание, которое не удаётся выполнить сразу, и переходите к следующему. Если после выполнения всей работы у Вас останется время, то Вы сможете вернуться к пропущенным заданиям.

Желаем успеха!

Часть 1

В этой части работы даны задания по истории Древнего мира.

Прочтите перечень из четырёх тем и выполните задания 1–6.

Перечень тем

А) Ассирийское государство


Б) Древний Египет

В) Древний Рим


Г) Древняя Палестина

1

Каждая из иллюстраций, приведённых ниже, относится к одной из указанных в перечне тем. Установите соответствие между темами и иллюстрациями: к каждой теме подберите по одной иллюстрации.



1)



2)



3)



4)

Запишите в таблицу выбранные цифры под соответствующими буквами.

Ответ:

А	Б	В	Г

Перечень тем

А) Ассирийское государство

Б) Древний Египет

В) Древний Рим

Г) Древняя Палестина

2

Прочтите отрывок из исторического источника и определите, к какой из данных тем он относится. В ответе напишите букву, которой обозначена эта тема.

«Слушайте меня! Я Уна, сын Небамона, копейщик воинства Сета, поведаю, что случилось у Кадеша, где я впервые предстал перед лицом его величества. А если кто усомнится в правдивости слов моих, пусть обратится к тем, кто остался в живых, пусть рассмотрит изображения, начертанные на стенах храмов, пусть прочтёт свитки, написанные царскими писцами.

Девятого числа месяца Жатвы мы вышли четырьмя воинствами из крепости Пути Хора, что на границе с пустыней. Первым шло воинство Амона. За ним воинство Ра. Потом воинство Пта. Последним двигалось воинство Сета. Колесницы катились левее нас по берегу моря, а за колесницами шагали шарданы, белолицые чужеземцы на царской службе, и несли за спиной обитые медью щиты. И всех вёл крепкой рукой Рамсес, царь Верхнего и Нижнего <...>, да будет он жив, здоров и невредим».

Ответ:

Выберите одну тему из перечня, а затем выполните задания 3–6 только по выбранной вами теме. Перед выполнением каждого из заданий 3–6 укажите букву, которой выбранная тема обозначена в перечне. Указанные в заданиях 3–6 буквы должны быть одинаковыми.

3

Выбранная тема: (укажите букву в перечне).

Прочтите список слов (словосочетаний) и напишите слово (словосочетание), относящееся к выбранной Вами теме.

Гладиаторы, филистимляне, Фивы, Ниневия, «царство стран», Пирей.

Ответ: _____

Объясните смысл этого слова (словосочетания).

Ответ: _____

Перечень тем

А) Ассирийское государство

Б) Древний Египет

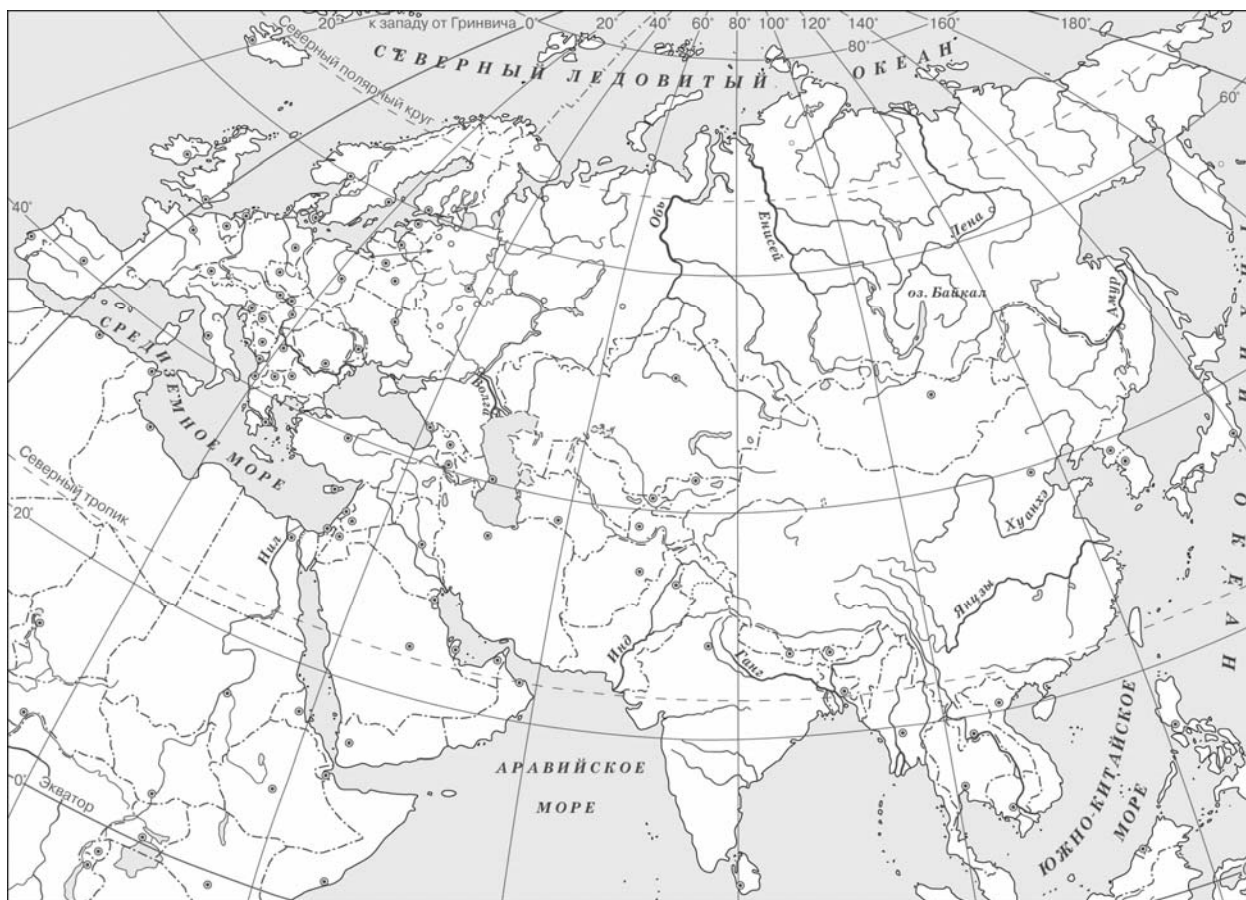
В) Древний Рим

Г) Древняя Палестина

5

Выбранная тема: (укажите букву в перечне).

Заштрихуйте на контурной карте один четырёхугольник, образованный градусной сеткой (параллелями и меридианами), в котором полностью или частично располагалась страна, указанная в выбранной Вами теме.



6

Выбранная тема: (укажите букву в перечне).

Используя знания исторических фактов, объясните, как природно-климатические условия повлияли на занятия жителей этой страны.

Ответ: _____

Часть 2

Вспомните важнейшие события истории Вашего региона или населённого пункта и выполните задания 7 и 8.

7 Назовите одно любое памятное место (исторический памятник, памятник культуры, мемориальная доска и т. п.) в Вашем регионе (городе, посёлке, селе, деревне), связанное с историей Вашего региона, или населённого пункта, или нашей страны в целом.

Ответ: _____

8 Какое значение для Вашего региона, или населённого пункта, или нашей страны в целом имело событие (явление, процесс), непосредственно связанное с указанным Вами памятным местом?

Ответ: _____

