

**Проверочная работа  
по ИСТОРИИ**

**5 класс**

**Вариант 13**

**Инструкция по выполнению работы**

На выполнение работы по истории даётся 45 минут. Работа состоит из двух частей и включает в себя 8 заданий. Часть 1 работы содержит задания по истории Древнего мира, в части 2 предложены задания по истории родного края.

Ответы на задания запишите в поля ответов в тексте работы. В случае записи неверного ответа зачеркните его и запишите рядом новый.

При выполнении работы не разрешается пользоваться учебником, рабочими тетрадями и другими справочными материалами.

При необходимости можно пользоваться черновиком. Записи в черновике проверяться и оцениваться не будут.

Советуем выполнять задания в том порядке, в котором они даны. В целях экономии времени пропускайте задание, которое не удаётся выполнить сразу, и переходите к следующему. Если после выполнения всей работы у Вас останется время, то Вы сможете вернуться к пропущенным заданиям.

***Желаем успеха!***

**Часть 1**

**В этой части работы даны задания по истории Древнего мира.**

*Прочтите перечень из четырёх тем и выполните задания 1–6.*

**Перечень тем**

**А) Древняя Палестина**

**Б) Древняя Греция**

**В) Древний Египет**


**Г) Древняя Индия**

1

Каждая из иллюстраций, приведённых ниже, относится к одной из указанных в перечне тем. Установите соответствие между темами и иллюстрациями: к каждой теме подберите по одной иллюстрации.




1)



2)



3)



4)

Запишите в таблицу выбранные цифры под соответствующими буквами.

Ответ:

А	Б	В	Г

## Перечень тем

А) Древняя Палестина

Б) Древняя Греция

В) Древний Египет

Г) Древняя Индия

2

Прочтите отрывок из исторического источника и определите, к какой из данных тем он относится. В ответе напишите букву, которой обозначена эта тема.

«I-93. Вследствие происхождения из наилучшей части тела [Брахмы], вследствие первородства, знания Веды, брахман по праву господин всего этого творения.

I-96. Из живых существ наилучшими считаются одушевлённые, между одушевлёнными – разумные, между разумными – люди, между людьми – брахманы.

X-3. Вследствие своей исключительности, превосходства происхождения, соблюдения ограничительных правил и особенности посвящения брахман – владыка варн.

X-4. Брахманы, кшатрии и вайшьи – три варны дважды рождённых, четвёртая же шудры – рождённые один раз, пятой же нет».

Ответ:

**Выберите одну тему из перечня, а затем выполните задания 3–6 только по выбранной вами теме. Перед выполнением каждого из заданий 3–6 укажите букву, которой выбранная тема обозначена в перечне. Указанные в заданиях 3–6 буквы должны быть одинаковыми.**

3

Выбранная тема:  (укажите букву в перечне).

Прочтите список слов (словосочетаний) и напишите слово (словосочетание), относящееся к выбранной Вами теме.

*Санскрит, акрополь, десять заповедей, патриции, клинопись, Мемфис.*

Ответ: \_\_\_\_\_

Объясните смысл этого слова (словосочетания).

Ответ: \_\_\_\_\_



**Перечень тем**

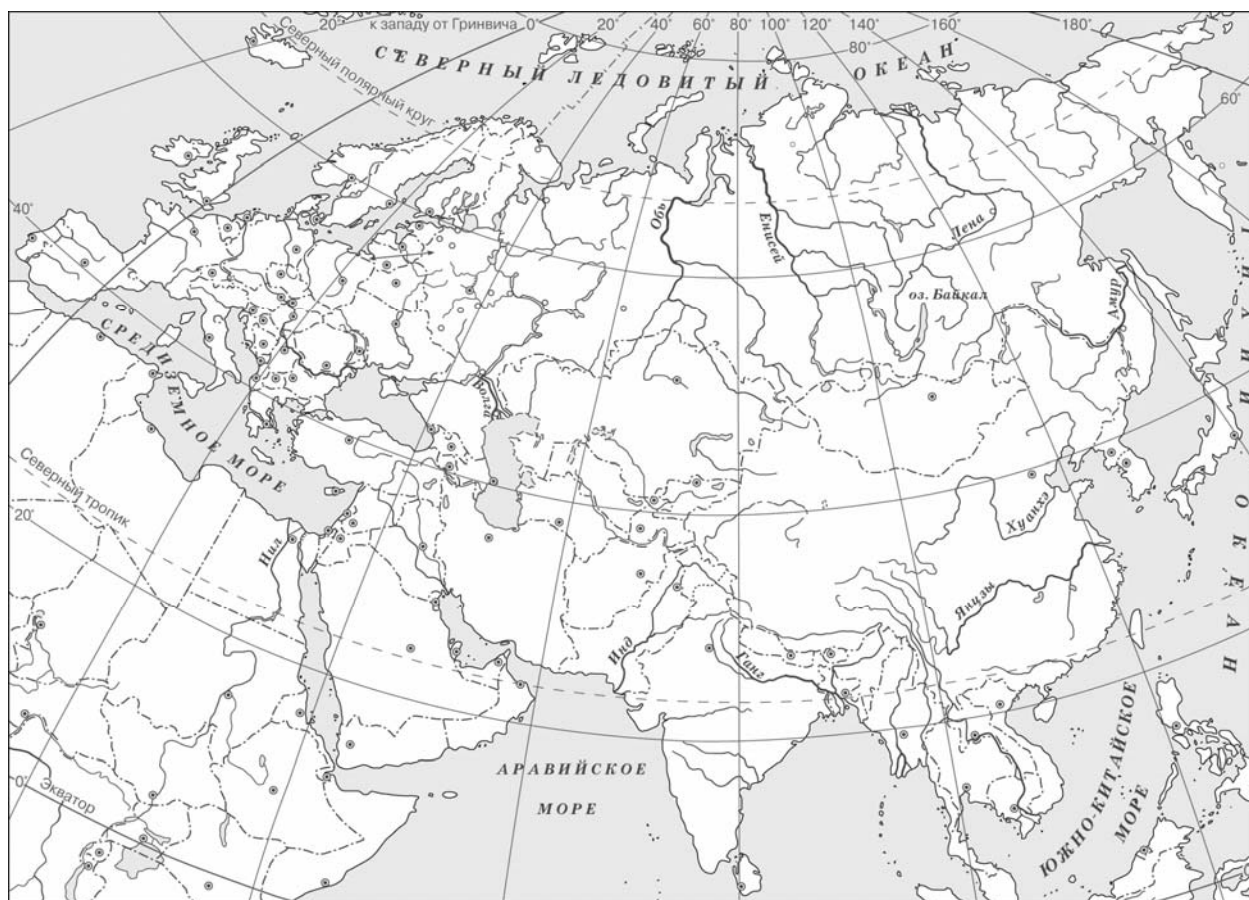
- А) Древняя Палестина
- В) Древний Египет

- Б) Древняя Греция
- Г) Древняя Индия

5

Выбранная тема:  (укажите букву в перечне).

Заштрихуйте на контурной карте один четырёхугольник, образованный градусной сеткой (параллелями и меридианами), в котором полностью или частично располагалась страна, указанная в выбранной Вами теме.



6

Выбранная тема:  (укажите букву в перечне).

Используя знания исторических фактов, объясните, как природно-климатические условия повлияли на занятия жителей этой страны.

Ответ:

\_\_\_\_\_

\_\_\_\_\_

\_\_\_\_\_

**Часть 2**

<b>Вспомните важнейшие события истории Вашего региона или населённого пункта и выполните задания 7 и 8.</b>
---

7 Назовите одно любое памятное место (исторический памятник, памятник культуры, мемориальная доска и т. п.) в Вашем регионе (городе, посёлке, селе, деревне), связанное с историей Вашего региона, или населённого пункта, или нашей страны в целом.

Ответ: \_\_\_\_\_

8 Какое значение для Вашего региона, или населённого пункта, или нашей страны в целом имело событие (явление, процесс), непосредственно связанное с указанным Вами памятным местом?

Ответ: \_\_\_\_\_

\_\_\_\_\_

\_\_\_\_\_

\_\_\_\_\_

\_\_\_\_\_

\_\_\_\_\_

\_\_\_\_\_

\_\_\_\_\_

\_\_\_\_\_

\_\_\_\_\_

\_\_\_\_\_

\_\_\_\_\_