

ВПР 2018 ПО ГЕОГРАФИИ 6 КЛАСС

Шарифуллина Диляра

- 1) Рассмотрите карту мира. На ней буквами А и Б отмечены два материка.
1.1. Запишите названия материков в соответствующее поле.

Название материка:

А

Название материка:

Б

- 1.2. С каким из названных Вами материков связаны открытия путешественников и исследователей, изображённых на портретах? Укажите название материка.



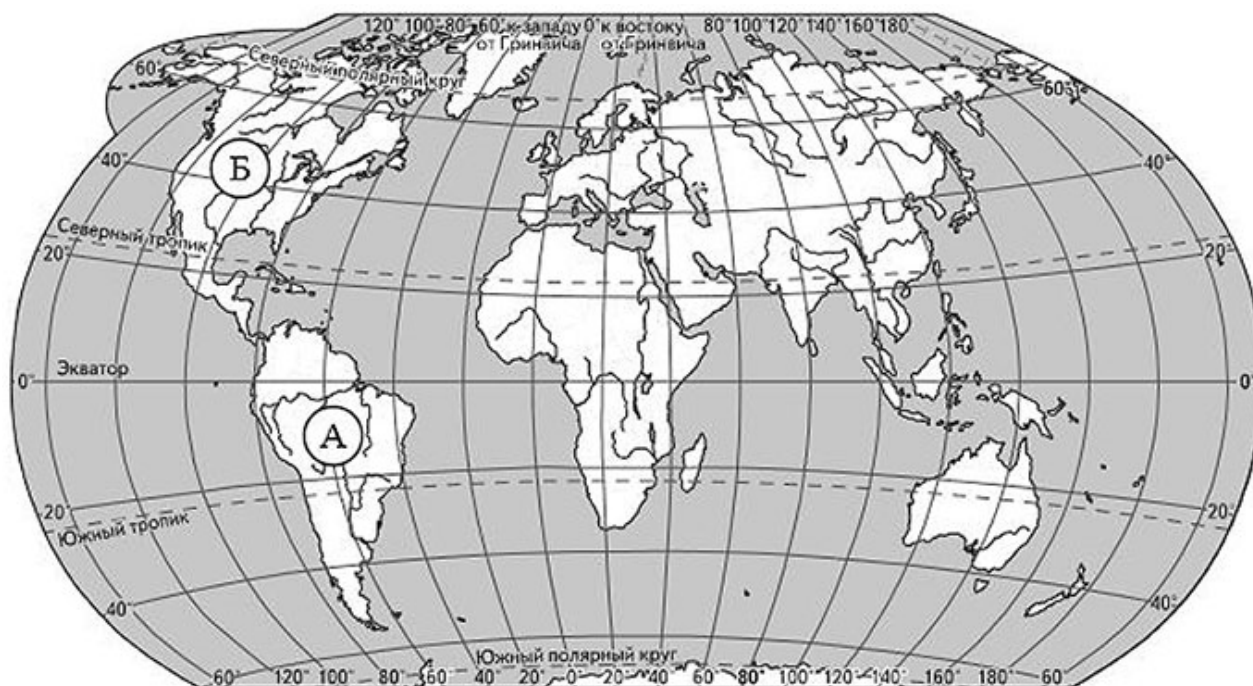
Христофор Колумб



Америго Веспуччи

Ответ:

Подпишите на карте океаны, омывающие берега указанного выше материка



2) 2.1. Поставьте точки на карте по приведённым ниже координатам. Обозначьте эти точки соответственно цифрами 1 и 2.

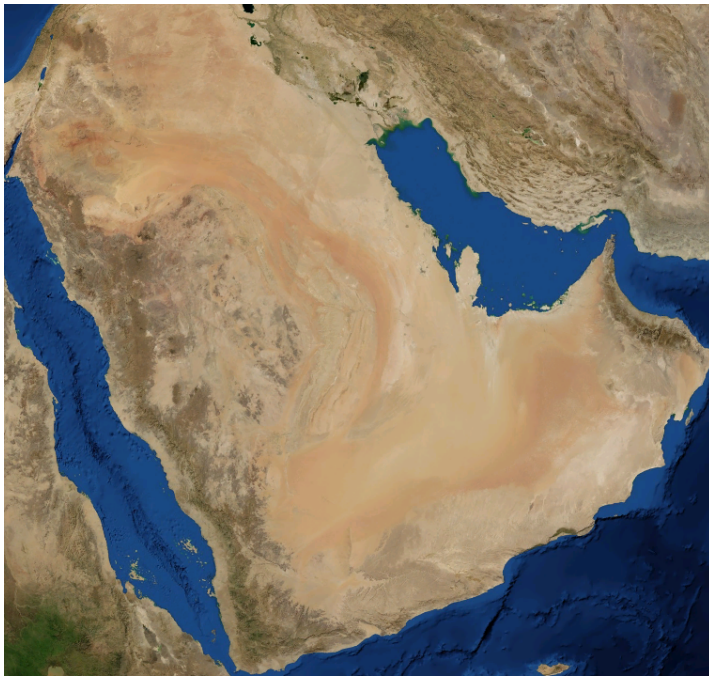
Точка 1- 19 ю.ш. 47 в.д.

Точка 2- 23 с.ш. 47 в.д.

В каком направлении от точки 1 расположена точка 2?

Ответ:

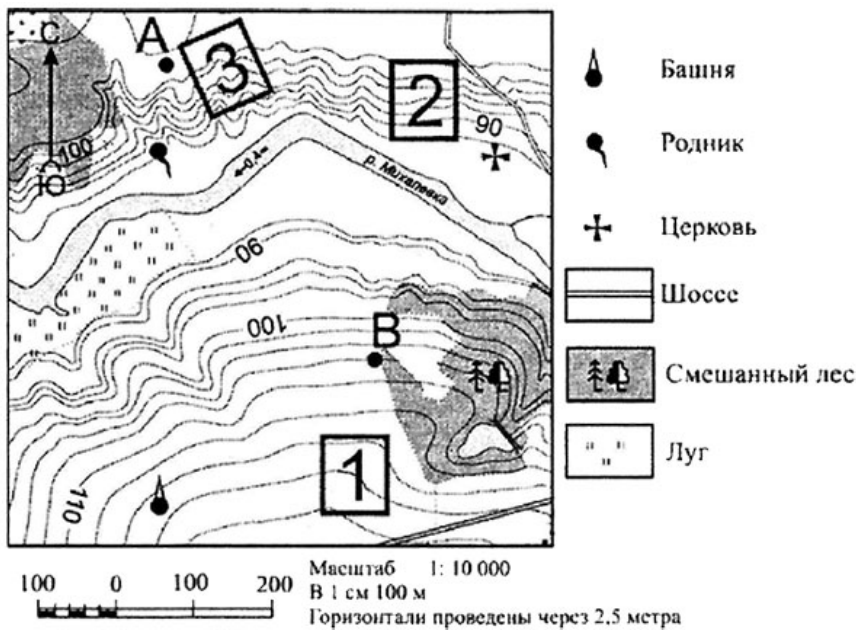
2.2. Точка 2 расположена на территории крупного географического объекта. Прочитайте текст, рассмотрите космический снимок и укажите название этого географического объекта.



Этот полуостров на юго-западе Азии, самый крупный на земном шаре. Пл. 2730 тыс. км². Омывается на западе Красным м., на юге Аденским зал. и Аравийским м., на востоке Оманским и Персидским заливами. В фауне обычны грызуны (песчанки, тушканчики и др.), копытные (газели и др.), из хищников – гиены, шакалы, лисы, в горах – леопард, дикая кошка. Много пресмыкающихся, птиц (в т. ч. перелётных). В ряде районов – очаги размножения саранчи.

Ответ:

3)



3.1. На каком берегу реки Михалёвки находится церковь?

Ответ:

3.2. Определите по карте расстояние на местности по прямой от родника до церкви. Измерение проводите между центрами условных знаков. Полученный результат округлите до десятков метров. Ответ запишите в виде числа.

Ответ:

3.3. Какой из изображённых на фотографиях объект может быть сооружён на участке в точке В? Обоснуйте свой ответ.



А-Футбольное поле



Б-Санний спуск

Ответ:

4) 4.1. Разница во времени между городами Казань и Красноярск составляет +4 часа. На рисунках представлены показания часов в Казани и Красноярске в тот момент, когда в Казани 6 часов вечера. Запишите под каждым рисунком, как отображается то же самое время на электронных часах в этих городах.



Казань



Красноярск

4.2. Марат живёт в городе Казань. Что он делает в указанное Вами время? Используйте для ответа приведённый режим дня школьника.

Ответ:

| РЕЖИМ ДНЯ ШКОЛЬНИКА | |
|----------------------------|---|
| 7.00 | <i>Подъём</i> |
| 7.05 – 7.20 | <i>Утренняя зарядка</i> |
| 7.20 – 7.30 | <i>Гигиенические процедуры</i> |
| 7.30 – 8.00 | <i>Завтрак</i> |
| 8.00 – 8.15 | <i>Дорога в школу</i> |
| 8.30 – 13.10 | <i>Занятия в школе</i> |
| 13.10 – 13.30 | <i>Дорога домой</i> |
| 13.45 – 14.15 | <i>Обед</i> |
| 14.15 – 16.15 | <i>Занятия в кружках/секциях</i> |
| 16.30 – 16.45 | <i>Полдник</i> |
| 16.45 – 18.15 | <i>Выполнение домашних заданий</i> |
| 18.15 – 19.15 | <i>Прогулка на свежем воздухе</i> |
| 19.30 – 20.00 | <i>Ужин</i> |
| 20.00 – 21.30 | <i>Свободное время (чтение книг, просмотр телепередач, настольные игры)</i> |
| 21.30 – 22.00 | <i>Гигиенические процедуры и подготовка ко сну</i> |
| 22.00 – 7.00 | <i>Ночной сон</i> |

4.3. Что в это же время делает его сверстница Маша, которая живёт в Красноярске, если она соблюдает тот же режим дня , что и Марат?

Ответ:

Укажите, чем обусловлена разница во времени в разных частях Земли.

Ответ:

- 5) 5.1. Установите соответствие между географическими особенностями и природными зонами, для которых они характерны: для этого к каждой позиции первого столбца подберите соответствующую позицию из второго столбца.

ПРИРОДНАЯ ЗОНА

А) тундра

Б) тайга;

В) степь;

Г) пустыня

ОСОБЕННОСТИ ПРИРОДЫ

1) на многолетней мерзлоте растут лиственница и кедровый стланик

2) из животных распространены песец, северный олень, лемминг

3) эта зона расположена на юге Русской равнины.

4) типичными представителями этой зоны являются полынь, ковыль.

Ответ:

| А | Б | В | Г |
|---|---|---|---|
| | | | |

5.2. Определите, в какой из указанных природных зон могла быть сделана каждая фотография. Подпишите названия природных зон.



б) На метеорологической станции города N в январе были проведены наблюдения за направлением ветра. По результатам наблюдений метеорологи построили розу ветров. Рассмотрите розу ветров и ответьте на вопросы.









6.1. Какой ветер чаще всего дул в январе?

Ответ:

В каком направлении дует этот ветер?

Ответ:

6.2. На каком рисунке знаками отображена погода в тот день, когда температура воздуха опустилась выше 10 градусов мороза ? Укажите букву, которой обозначен этот рисунок. Составьте описание погоды в этот день.

| | | | | | |
|---|---|---|---|--------|-----|
| А |  |  |  | -16 °С | 74% |
| Б |  | |  | -10 °С | 56% |
| В |  |  |  | +2 °С | 80% |

Ответ:

- 7) Определите регион России по его краткому описанию.

Эта область расположена на границе европейской и азиатской частей России. Её территория имеет выход к Государственной границе с Казахстаном. Большая часть территории имеет равнинный рельеф, восточную часть области занимают южные отроги Уральских гор. Главными отраслями промышленности являются машиностроение, металлургия (в области работает один из крупнейших металлургических комбинатов страны, ведётся выплавка меди и никеля), нефтяная и газовая промышленность.

Ответ:

- 8) Используя данные таблицы, определите долю лиц старше трудоспособного возраста (в %) в возрастной структуре населения г. Иванова в 2012 г. Полученный результат округлите до целого числа.

Распределение населения г. Иванова по возрастным группам в 2012 г., тыс. человек

| | Численность населения |
|---------------------------------|-----------------------|
| Всё население | 408,8 |
| В том числе в возрасте: | |
| моложе трудоспособного | 57,4 |
| из них детей в возрасте 1–6 лет | 23,7 |
| в трудоспособном | 247,5 |
| старше трудоспособного | 103,9 |

Ответ:

- 9) Рассмотрите фотографию с изображением опасного явления природы. Запишите его название.



Природное явление-_____

Чем опасно это явление для людей? Составьте краткое описание этого природного явления (объёмом до пяти предложений).

Ответ:

10) 10.1. Запишите название региона: республики, или области, или края, или автономного округа или города федерального значения, в котором Вы живёте.

Ответ:

10.2. Какой особенностью обладает регион, где Вы проживаете. Составьте краткую характеристику.

Ответ:

ОТВЕТЫ:

- 1) 1.1 А-Южная Америка
Б-Северная Америка
1.2 Южная Америка
-Тихий океан, Атлантический
- 2) 2.1 В северном направлении
2.2 Аравийский полуостров
- 3) 3.1 на правом берегу
3.2 410
3.3 Б-санный спуск
-Находится на склоне с достаточным для санного спуска уклоном, на склоне нет никаких объектов, которые могут помешать спуску, а для сооружения футбольного поля необходим ровный участок.
- 4) 4.1 18:00 и 22:00
4.2 Выполняет домашнее задание
4.3 Ложится спать
Такая разница во времени обусловлена вращением Земли вокруг своей оси.
- 5) 5.1 АБВГ
2134
5.2 Тайга, Тундра
- 6) Юго-восточный ветер
В северо-западном направлении
Буква В
Влажность воздуха=80, температура воздуха +2
- 7) Оренбургская область
- 8) $103,9 \cdot 100 / 408,8 = 25$
- 9) Оползень
Оползень - это движущаяся масса горных пород. Обычно состоит она из рыхлого грунта, который уже не способен выдерживать нагрузку собственного веса, из-за чего и происходит смещение. Данное геологическое явление очень опасно, поскольку подобные массы горных пород могут погребать под собой различные объекты. Они являются причиной разрушения дорог, зданий, коммуникаций и различных важных объектов. Также серьёзный вред наносит данное явление и сельскохозяйственным угодьям.