

### Система оценивания проверочной работы

Полный правильный ответ на каждое из заданий 1.1, 2.2, 3.2, 4.1, 4.2 и 5.2 оценивается **1 баллом**. Если в ответе допущена хотя бы одна ошибка (один из элементов ответа записан неправильно или не записан), выставляется 0 баллов.

Полный правильный ответ на каждое из заданий 5.1, 7 и 8.2 оценивается **2 баллами**. Если в ответе допущена одна ошибка, выставляется 1 балл; если допущено две или более ошибки – 0 баллов.

Номер задания	Правильный ответ
1.1	А – Индийский Б – Тихий
2.2	Белое море
3.2	300 метров (допускается погрешность $\pm 10$ метров)
4.1	14.00; 13.00
4.2	у Анны урок по физкультуре (1 смена)
5.1	112212
5.2	А – пустыня Б – саванны и редколесья
7	246 (в любой последовательности)
8.2	А – Франция Б – Россия В – ОАЭ Г – Япония

1

1.2. С каким из названных Вами океанов, которому Фернан Магеллан дал название во время своего кругосветного плавания, связаны открытия путешественников и исследователей, изображённых на портретах? Укажите название океана.



Фернан Магеллан



Витус Беринг

Подпишите на карте материки, берега которых омывают воды указанного Вами океана.

Содержание верного ответа и указания по оцениванию	Баллы
Правильный ответ должен содержать следующие <u>элементы</u> : 1) <u>название океана</u> : Тихий; 2) <u>подписи материков на карте</u> : Евразия, Австралия, Северная Америка, Южная Америка, Антарктида	
Правильно указано название океана, подписаны пять материков	2
Правильно указано название океана, подписаны два–четыре материка	1
Правильно указано название океана, подписан только один материк. ИЛИ Правильно указано только название океана, ни один материк не подписан / не подписан правильно. ИЛИ Название океана не указано / указано неправильно независимо от наличия/отсутствия подписи материков. ИЛИ Ответ неправильный	0
<i>Максимальный балл</i>	2

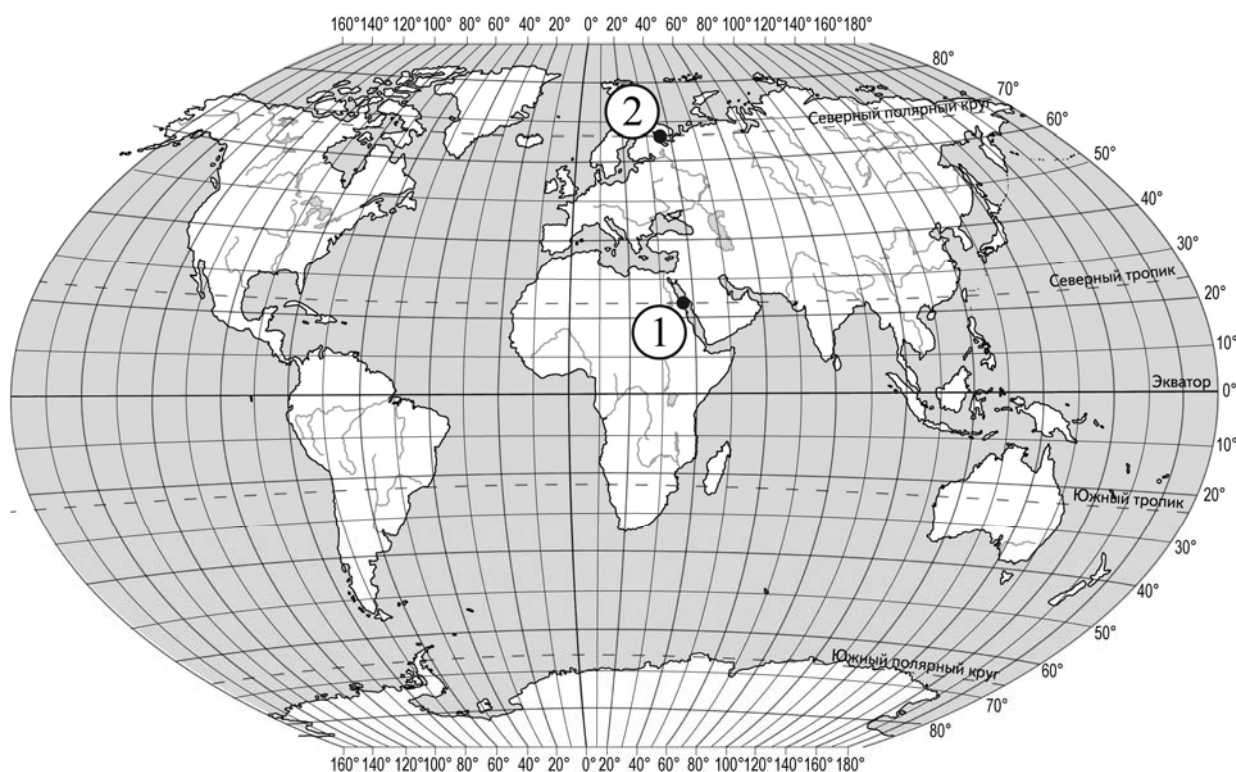
2

2.1. Поставьте точки на карте по приведённым ниже координатам. Обозначьте эти точки соответственно цифрами 1 и 2.

Точка 1 – 23° с. ш. 36° в. д.

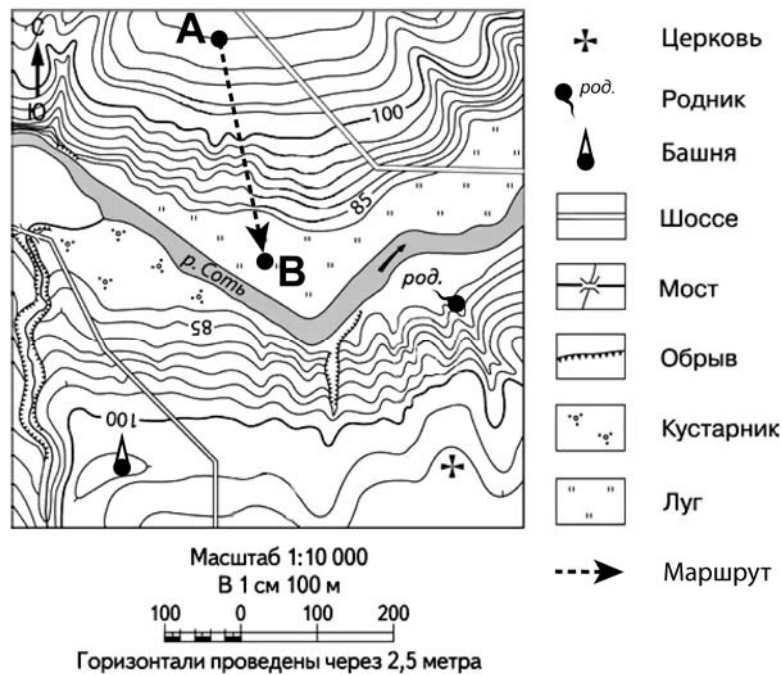
Точка 2 – 66° с. ш. 36° в. д.

В каком направлении от точки 1 расположена точка 2?



Содержание верного ответа, критерии и указания по оцениванию		Баллы
<b>К1</b>	<b>Отметка двух точек на карте</b>	<b>1</b>
	Две точки на карте отмечены правильно. <i>Допускается погрешность <math>\pm 2^\circ</math></i>	1
	На карте правильно отмечена только одна точка. ИЛИ Точки не отмечены / отмечены неправильно	0
	<i>Если по критерию К1 выставлен 0 баллов, то по критерию К2 выставляется 0 баллов</i>	
<b>К2</b>	<b>Указание направления</b>	<b>1</b>
	Направление указано правильно: в северном / на север	1
	Направление не указано / указано неправильно	0
<i>Максимальный балл</i>		<b>2</b>

3



3.1. На каком берегу реки Соты находится башня?  
 В каком направлении от башни расположен родник?

Содержание верного ответа и указания по оцениванию	Баллы
Правильный ответ должен содержать <u>ответы на два вопроса</u> : 1) на правом берегу; 2) в северо-восточном направлении / на северо-восток	
Правильно даны ответы на два вопроса	2
Правильно дан ответ только на один любой вопрос	1
Ответы на вопросы не даны / даны неправильно	0
<i>Максимальный балл</i>	2

3.3. Какой из изображённых на фотографиях объект может быть сооружён на участке, по которому проходит маршрут А–В? Запишите в ответе **номер** фотографии. Обоснуйте свой ответ.



1 – волейбольная площадка



2 – трасса для тюбинга

Содержание верного ответа и указания по оцениванию	Баллы
<p>Правильный ответ должен содержать следующие <u>элементы</u>:</p> <p>1) <u>указание объекта</u>: 2 – трасса для тюбинга;</p> <p>2) <u>обоснование</u>, например: маршрут проложен по склону с достаточным для трассы для тюбинга уклоном, на склоне нет никаких объектов, которые могут помешать спуску, а для сооружения волейбольной площадки необходим ровный участок.</p> <p><i>Обоснование может быть приведено в иной, близкой по смыслу формулировке</i></p>	
Правильно указан объект, приведено обоснование	2
Правильно указан только объект	1
Объект указан неправильно независимо от наличия/отсутствия обоснования. ИЛИ Ответ неправильный	0
<i>Максимальный балл</i>	2

4

4.3. Урок по какому предмету в это же время у её сверстницы Екатерины, которая живёт в Казани, если у неё такое же расписание уроков, что и у Анны?

Обоснуйте свой ответ.

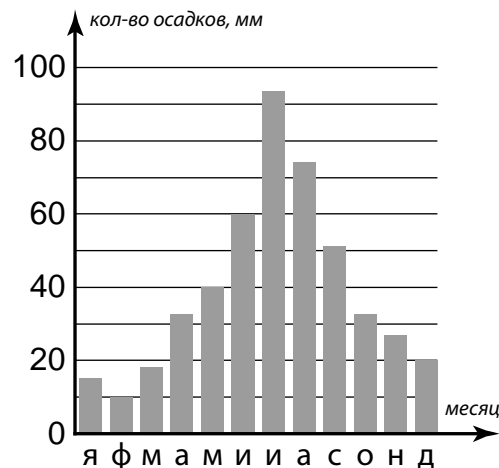
Укажите, чем обусловлена разница во времени в разных частях Земли.

<b>РАСПИСАНИЕ УРОКОВ</b>		
<b>№ урока</b>	<b>Время</b>	<b>Предмет</b>
<b>1 смена</b>		
<b>1</b>	<b>8.30 – 9.15</b>	<i>Русский язык</i>
<b>2</b>	<b>9.25 – 10.10</b>	<i>География</i>
<b>3</b>	<b>10.30 – 11.15</b>	<i>Математика</i>
<b>4</b>	<b>11.35 – 12.20</b>	<i>Физкультура</i>
<b>5</b>	<b>12.30 – 13.15</b>	<i>Иностр. язык</i>
<b>6</b>	<b>13.30 – 14.10</b>	
<b>2 смена</b>		
<b>1</b>	<b>13.30 – 14.10</b>	<i>Русский язык</i>
<b>2</b>	<b>14.30 – 15.15</b>	<i>Биология</i>
<b>3</b>	<b>15.25 – 16.10</b>	<i>Математика</i>
<b>4</b>	<b>16.20 – 17.05</b>	<i>Литература</i>
<b>5</b>	<b>17.15 – 18.00</b>	<i>История</i>

<b>Содержание верного ответа и указания по оцениванию</b>	<b>Баллы</b>
<p>Правильный ответ должен содержать следующие элементы:</p> <p>1) <u>ответ на вопрос</u>: у Екатерины урок по математике (1 смена);</p> <p>2) <u>обоснование</u>, например: когда в Уфе 12 часов, в Казани 11 часов, поэтому, когда у Анны урок по физкультуре (1 смена), у Екатерины урок по математике (1 смена);</p> <p>3) <u>указание того, чем обусловлена разница во времени</u>, например: разница во времени обусловлена вращением Земли вокруг своей оси.</p> <p><i>Обоснование и/или указание может быть приведено в иной, близкой по смыслу формулировке</i></p>	
Правильно дан ответ на вопрос, приведены обоснование и указание	3
Правильно дан ответ на вопрос и приведено обоснование. ИЛИ Правильно дан ответ на вопрос и приведено указание	2
Правильно дан только ответ на вопрос. ИЛИ Правильно приведено только указание	1
Ответ на вопрос отсутствует / дан неправильно независимо от наличия / отсутствия других элементов ответа. ИЛИ Ответ неправильный	0
<i>Максимальный балл</i>	3

6

На метеорологической станции города N в течение года наблюдали за количеством осадков. По результатам наблюдений метеорологи построили диаграмму выпадения осадков по месяцам. Рассмотрите диаграмму выпадения осадков и ответьте на вопросы.



6.1. В каком месяце выпало больше всего осадков?  
 На какой период (с какого месяца по какой) приходилось наименьшее количество осадков?

Содержание верного ответа и указания по оцениванию	Баллы
Правильный ответ должен содержать <u>ответы на два вопроса</u> : 1) в июле; 2) с января по март	
Правильно даны ответы на два вопроса	2
Правильно дан ответ только на один любой вопрос	1
Ответы на вопросы не даны / даны неправильно	0
<i>Максимальный балл</i>	2

6.2. На каком рисунке знаками отображена погода в тот день, когда выпадали осадки? Укажите букву, которой обозначен этот рисунок. Составьте описание погоды в этот день.

А	●	✱	↙	-12 °C	84%
Б	○		↖	+15 °C	62%
В	◐		←	+28 °C	90%

Содержание верного ответа, критерии и указания по оцениванию		Баллы
К1	Указание рисунка	1
	Правильно указан рисунок: А	1
	Рисунок не указан / указан неправильно	0
	<i>Если по критерию К1 выставлен 0 баллов, то по критерию К2 выставляется 0 баллов</i>	

<b>К2</b>	<b>Описание погоды</b>	<b>2</b>
	Правильно представлено описание погоды с учётом всех показателей, отображённых на рисунке знаками, например: в этот день была пасмурная погода, шёл снег, дул северо-восточный ветер, температура воздуха была минус 12 градусов, влажность воздуха – 84%. <i>Описание может быть приведено в иной, близкой по смыслу формулировке</i>	2
	Представлено описание погоды с учётом всех показателей, отображённых на рисунке знаками, допущена одна ошибка / не учтён один из показателей	1
	В описании погоды допущены две или более ошибки. ИЛИ В описании погоды не учтены два или более показателя. ИЛИ Описание погоды не представлено	0
	<i>Максимальный балл</i>	<b>3</b>

8

8.1. Используя приведённую ниже таблицу, выполните задания.

### Численность и состав населения, 2016 г.

№	Страна	Численность населения, млн человек	Состав населения, %	
			женское	мужское
1	Франция	65	51	49
2	ОАЭ	9	31	69
3	Россия	147	54	46
4	Япония	127	51	49

Расположите страны в порядке **уменьшения** численности населения, начиная со страны с самой большой численностью. Запишите в ответе последовательность порядковых номеров этих стран.

В какой стране преобладает мужское население? Запишите в ответе название страны.

В каких странах доля женского населения одинакова? Запишите в ответе названия стран.

Содержание верного ответа и указания по оцениванию	Баллы
Правильный ответ должен содержать следующие <u>элементы</u> : 1) <u>последовательность номеров стран</u> : 3412; 2) <u>ответ на первый вопрос</u> : в ОАЭ; 3) <u>ответ на второй вопрос</u> : во Франции и Японии	
Правильно указана последовательность номеров стран и даны ответы на два вопроса	2
Правильно указана последовательность номеров стран и дан ответ на один любой вопрос. ИЛИ Правильно даны только ответы на два вопроса	1
Правильно указана только последовательность номеров стран. ИЛИ Правильно дан ответ только на один любой вопрос. ИЛИ Ответ неправильный	0
<i>Максимальный балл</i>	<b>2</b>



9

Рассмотрите фотографию с изображением опасного явления природы. Запишите его название.

Составьте краткое описание этого природного явления (объёмом до пяти предложений). Поясните, чем опасно это явление для людей.



Содержание верного ответа и указания к оцениванию		Баллы
<b>К1</b>	<b>Указание опасного явления природы</b>	<b>1</b>
	Правильно определено опасное явление природы: <u>град</u> . <i>При оценивании как правильный ответ засчитывается любое допустимое название данного явления</i>	1
	Опасное явление природы не определено / определено неправильно	0
	<i>Если по критерию К1 выставлен 0 баллов, то по всем остальным позициям оценивания выставляется 0 баллов</i>	
<b>К2</b>	<b>Описание этого природного явления</b>	<b>1</b>
	<i>При оценивании в качестве правильного может быть принято описание природного явления в любом объёме</i>	
	Описание содержит основные сведения о природном явлении. Фактических ошибок нет	1
	В описании допущены фактические ошибки. ИЛИ Приведены рассуждения общего характера, не содержащие сведений о природном явлении. ИЛИ Описание не представлено	0
<b>К3</b>	<b>Пояснение, чем опасно это явление для людей</b>	<b>1</b>
	Правильно пояснено, чем опасно это явление для людей	1
	Пояснение о том, чем опасно это явление для людей, отсутствует. ИЛИ Ответ неправильный	0
	<i>Максимальный балл</i>	

10

10.1. Запишите название региона: республики, или области, или края, или автономного округа или города федерального значения, в котором Вы живёте.

Как называется главный город Вашего региона? / Как называется населённый пункт / округ / муниципальный район города, в котором Вы живёте / расположена Ваша школа?

Указания к оцениванию		Баллы
Правильно указаны название региона и его главный город / населённый пункт / округ / муниципальный район города		1
Правильно указано только название региона. ИЛИ Правильно указан только главный город региона / населённый пункт / округ / муниципальный район города. ИЛИ Ответ неправильный		0
<i>Максимальный балл</i>		<i>1</i>

10.2. Какими полезными ископаемыми богата территория Вашего региона? Опишите способы использования их человеком.

Критерии и указания к оцениванию		Баллы
<b>К1</b>	<b>Указание полезных ископаемых на территории региона</b>	<i>1</i>
	Правильно указаны полезные ископаемые, которыми богата территория региона. <i>При оценивании как правильный ответ засчитывается указание любого количества объектов (одного и более)</i>	1
	Полезные ископаемые, которыми богата территория региона, не указаны / указаны неправильно <i>Если по критерию К1 выставлен 0 баллов, то по критерию К2 выставляется 0 баллов</i>	0
<b>К2</b>	<b>Описание способов использования полезных ископаемых человеком</b>	2
	Представлено описание способов использования полезных ископаемых человеком. Фактических ошибок нет	2
	Представлено описание способов использования полезных ископаемых человеком. Допущено не более двух фактических ошибок	1
	Приведены сведения, не соответствующие требованию задания	0
<i>Максимальный балл</i>		<i>3</i>

### Система оценивания выполнения всей работы

Максимальный балл за выполнение работы – 37.

*Рекомендации по переводу первичных баллов в отметки по пятибалльной шкале*

Отметка по пятибалльной шкале	«2»	«3»	«4»	«5»
Первичные баллы	0–9	10–21	22–30	31–37