

Система оценивания проверочной работы

Полный правильный ответ на каждое из заданий 1.1, 2.2, 3.2, 4.1, 4.2 и 5.2 оценивается **1 баллом**. Если в ответе допущена хотя бы одна ошибка (один из элементов ответа записан неправильно или не записан), выставляется 0 баллов.

Полный правильный ответ на каждое из заданий 5.1, 7 и 8.2 оценивается **2 баллами**. Если в ответе допущена одна ошибка, выставляется 1 балл; если допущено две или более ошибки – 0 баллов.

Номер задания	Правильный ответ
1.1	А – Атлантический Б – Северный Ледовитый
2.2	озеро Байкал
3.2	200 метров (допускается погрешность ± 10 метров)
4.1	16.00; 13.00
4.2	у Анны урок по математике (2 смена)
5.1	121221
5.2	А – пустыня Б – степь
7	346 (в любой последовательности)
8.2	А – Германия Б – Австралия В – Россия Г – США

1

1.2. С каким из названных Вами океанов связаны открытия путешественников и первооткрывателей, изображённых на портретах? Укажите название океана, по которому проходили маршруты экспедиций этих путешественников.



И.Д. Папанин



Фритъоф Хансен

Подпишите на карте материка, берега которых омывают воды указанного Вами океана.

Содержание верного ответа и указания по оцениванию	Баллы
Правильный ответ должен содержать следующие <u>элементы</u> : 1) <u>название океана</u> : Северный Ледовитый; 2) <u>подписи материков на карте</u> : Евразия, Северная Америка	
Правильно указано название океана, подписаны два материка	2
Правильно указано название океана, подписан только один материк	1
Правильно указано только название океана, ни одно название материка не подписано / не подписано правильно. ИЛИ Название океана не указано / указано неправильно независимо от наличия/отсутствия подписи материков. ИЛИ Ответ неправильный	0
<i>Максимальный балл</i>	2

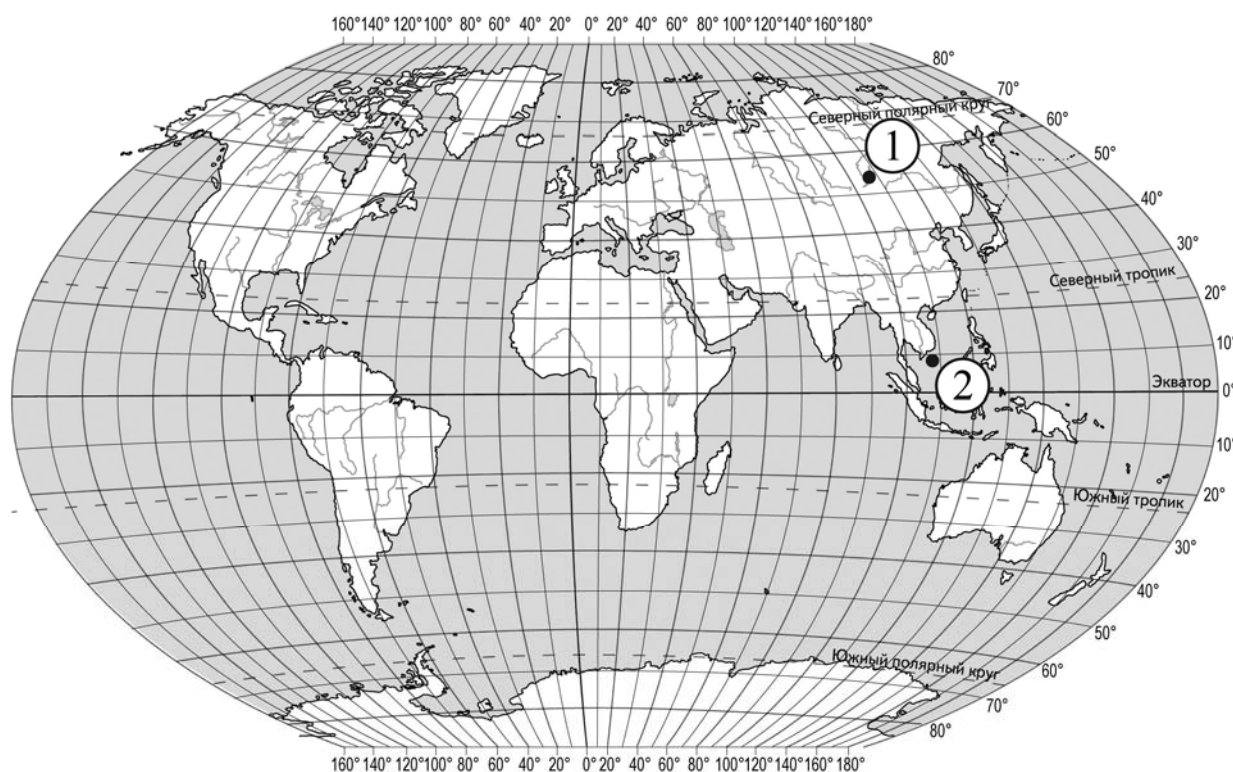
2

2.1. Поставьте точки на карте по приведённым ниже координатам. Обозначьте эти точки соответственно цифрами 1 и 2.

Точка 1 – 53° с. ш. 107° в. д.

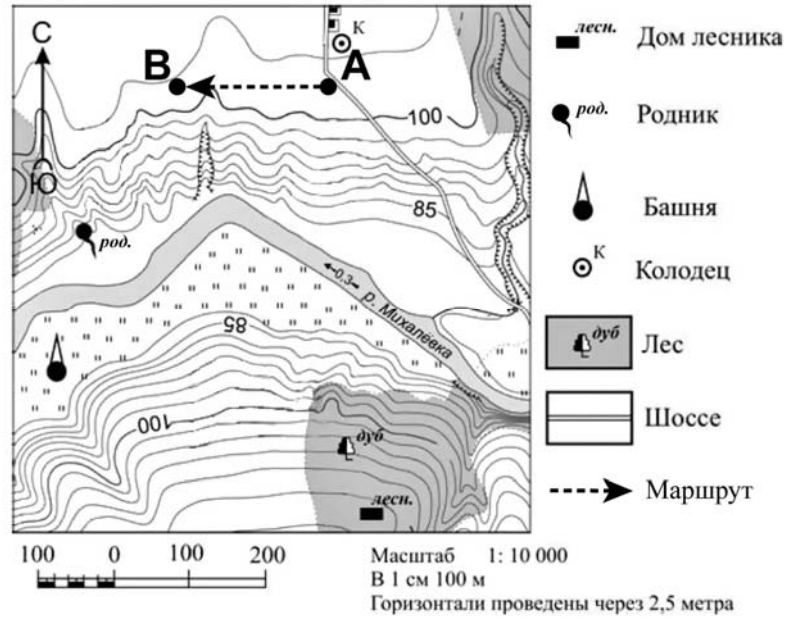
Точка 2 – 8° с. ш. 107° в. д.

В каком направлении от точки 1 расположена точка 2?



Содержание верного ответа, критерии и указания по оцениванию		Баллы
K1	Отметка двух точек на карте	1
	Две точки на карте отмечены правильно. <i>Допускается погрешность $\pm 2^{\circ}$</i>	1
	На карте правильно отмечена только одна точка. ИЛИ Точки не отмечены / отмечены неправильно	0
	<i>Если по критерию K1 выставлен 0 баллов, то по критерию K2 выставляется 0 баллов</i>	
K2	Указание направления	1
	Направление указано правильно: в южном / на юг	1
	Направление не указано / указано неправильно	0
<i>Максимальный балл</i>		2

3



3.1. На каком берегу реки Михалёвки находится родник?
 В каком направлении от родника расположен дом лесника?

Содержание верного ответа и указания по оцениванию	Баллы
Правильный ответ должен содержать <u>ответы на два вопроса</u> : 1) на правом берегу; 2) в юго-восточном направлении / на юго-восток	
Правильно даны ответы на два вопроса	2
Правильно дан ответ только на один любой вопрос	1
Ответы на вопросы не даны / даны неправильно	0
<i>Максимальный балл</i>	2

3.3. Какой из изображённых на фотографиях объект может быть сооружён в месте, показанном на карте точкой А? Запишите в ответе **номер** фотографии. Обоснуйте свой ответ.



1 – лодочная станция



2 – автобусная остановка

Содержание верного ответа и указания по оцениванию	Баллы
<p>Правильный ответ должен содержать следующие <u>элементы</u>:</p> <p>1) <u>указание объекта</u>: 2 – автобусная остановка;</p> <p>2) <u>обоснование</u>, например: точка А расположена на обочине шоссе, где удобно построить автобусную остановку, а лодочная станция должна находиться на берегу реки.</p> <p><i>Обоснование может быть приведено в иной, близкой по смыслу формулировке</i></p>	
Правильно указан объект, приведено обоснование	2
Правильно указан только объект	1
Объект указан неправильно независимо от наличия/отсутствия обоснования. ИЛИ Ответ неправильный	0
<i>Максимальный балл</i>	2

4

4.3. Урок по какому предмету в это же время у её сверстницы Екатерины, которая живёт в Калининграде, если у неё такое же расписание уроков, что и у Анны?

Обоснуйте свой ответ.

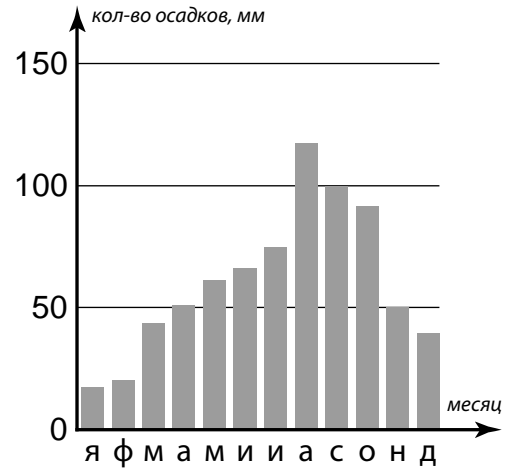
Укажите, чем обусловлена разница во времени в разных частях Земли.

РАСПИСАНИЕ УРОКОВ		
№ урока	Время	Предмет
1 смена		
1	8.30 – 9.15	<i>Русский язык</i>
2	9.25 – 10.10	<i>География</i>
3	10.30 – 11.15	<i>Математика</i>
4	11.35 – 12.20	<i>Физкультура</i>
5	12.30 – 13.15	<i>Иностр. язык</i>
6	13.30 – 14.10	
2 смена		
1	13.30 – 14.10	<i>Русский язык</i>
2	14.30 – 15.15	<i>Биология</i>
3	15.25 – 16.10	<i>Математика</i>
4	16.20 – 17.05	<i>Литература</i>
5	17.15 – 18.00	<i>История</i>

Содержание верного ответа и указания по оцениванию	Баллы
<p>Правильный ответ должен содержать следующие <u>элементы</u>:</p> <p>1) <u>ответ на вопрос</u>: у Екатерины урок по иностранному языку (1 смена);</p> <p>2) <u>обоснование</u>, например: когда в Оренбурге 16 часов, в Калининграде 13 часов, поэтому, когда у Анны урок по математике (2 смена), у Екатерины урок по иностранному языку (1 смена);</p> <p>3) <u>указание того, чем обусловлена разница во времени</u>, например: разница во времени обусловлена вращением Земли вокруг своей оси.</p> <p><i>Обоснование и/или указание может быть приведено в иной, близкой по смыслу формулировке</i></p>	
Правильно дан ответ на вопрос, приведены обоснование и указание	3
Правильно дан ответ на вопрос и приведено обоснование. ИЛИ Правильно дан ответ на вопрос и приведено указание	2
Правильно дан только ответ на вопрос. ИЛИ Правильно приведено только указание	1
Ответ на вопрос отсутствует / дан неправильно независимо от наличия / отсутствия других элементов ответа. ИЛИ Ответ неправильный	0
<i>Максимальный балл</i>	3

6

На метеорологической станции города N в течение года наблюдали за количеством осадков. По результатам наблюдений метеорологи построили диаграмму выпадения осадков по месяцам. Рассмотрите диаграмму выпадения осадков и ответьте на вопросы.



6.1. В каком месяце выпало больше всего осадков?
 На какой период (с какого месяца по какой) приходилось наименьшее количество осадков?

Содержание верного ответа и указания по оцениванию	Баллы
Правильный ответ должен содержать <u>ответы на два вопроса</u> : 1) август; 2) с декабря по февраль	
Правильно даны ответы на два вопроса	2
Правильно дан ответ только на один любой вопрос	1
Ответы на вопросы не даны / даны неправильно	0
<i>Максимальный балл</i>	2

6.2. На каком рисунке знаками отображена погода в тот день, когда выпадали осадки? Укажите букву, которой обозначен этот рисунок. Составьте описание погоды в этот день.

А			-8 °C	74%
Б			+5 °C	87%
В			+10 °C	65%

Содержание верного ответа, критерии и указания по оцениванию		Баллы
К1	Указание рисунка	1
	Правильно указан рисунок: Б	1
	Рисунок не указан / указан неправильно	0
	<i>Если по критерию К1 выставлен 0 баллов, то по критерию К2 выставляется 0 баллов</i>	

К2	Описание погоды	2
	Правильно представлено описание погоды с учётом всех показателей, отображённых на рисунке знаками, например: в этот день была пасмурная погода, шёл дождь, дул северный ветер, температура воздуха была плюс 5 градусов, влажность воздуха – 87%. <i>Описание может быть приведено в иной, близкой по смыслу формулировке</i>	2
	Представлено описание погоды с учётом всех показателей, отображённых на рисунке знаками, допущена одна ошибка / не учтён один из показателей	1
	В описании погоды допущены две или более ошибки. ИЛИ В описании погоды не учтены два или более показателя. ИЛИ Описание погоды не представлено	0
	<i>Максимальный балл</i>	3

8

8.1. Используя приведённую ниже таблицу, выполните задания.

Численность и доля занятого населения, 2016 г.

№	Страна	Численность занятого населения, млн человек	Доля занятого населения, %		
			в сельском хозяйстве	в промышленности	в сфере услуг
1	Россия	76	9	28	63
2	Германия	46	2	23	75
3	США	160	1	20	79
4	Австралия	13	4	21	75

Расположите страны в порядке **увеличения** численности занятого населения, начиная со страны с самой маленькой численностью занятого населения. Запишите в ответе последовательность порядковых номеров этих стран.

В какой стране доля населения, занятого в сельском хозяйстве, наименьшая? Запишите в ответе название страны.

В каких странах доля населения, занятого в сфере услуг, одинакова? Запишите в ответе названия стран.

Содержание верного ответа и указания по оцениванию	Баллы
Правильный ответ должен содержать следующие <u>элементы</u> : 1) <u>последовательность номеров стран</u> : 4213; 2) <u>ответ на первый вопрос</u> : в США; 3) <u>ответ на второй вопрос</u> : в Германии и Австралии	
Правильно указана последовательность номеров стран и даны ответы на два вопроса	2
Правильно указана последовательность номеров стран и дан ответ на один любой вопрос. ИЛИ Правильно даны только ответы на два вопроса	1
Правильно указана только последовательность номеров стран. ИЛИ Правильно дан ответ только на один любой вопрос. ИЛИ Ответ неправильный	0
<i>Максимальный балл</i>	2

9

Рассмотрите фотографию с изображением последствий опасного явления природы. Запишите название этого явления.

Составьте краткое описание этого природного явления (объёмом до пяти предложений). Поясните, чем опасно это явление для людей.



Содержание верного ответа и указания к оцениванию		Баллы
К1	Указание опасного явления природы	1
	Правильно определено опасное явление природы: <u>землетрясение</u> . <i>При оценивании как правильный ответ засчитывается любое допустимое название данного явления</i>	1
	Опасное явление природы не определено / определено неправильно	0
	<i>Если по критерию К1 выставлен 0 баллов, то по всем остальным позициям оценивания выставляется 0 баллов</i>	
К2	Описание этого природного явления	1
	<i>При оценивании в качестве правильного может быть принято описание природного явления в любом объёме</i>	
	Описание содержит основные сведения о природном явлении. Фактических ошибок нет	1
	В описании допущены фактические ошибки. ИЛИ Приведены рассуждения общего характера, не содержащие сведений о природном явлении. ИЛИ Описание не представлено	0
К3	Пояснение, чем опасно это явление для людей	1
	Правильно пояснено, чем опасно это явление для людей	1
	Пояснение о том, чем опасно это явление для людей, отсутствует. ИЛИ Ответ неправильный	0
	<i>Максимальный балл</i>	

10

10.1. Запишите название региона: республики, или области, или края, или автономного округа или города федерального значения, в котором Вы живёте.

Как называется главный город Вашего региона? / Как называется населённый пункт / округ / муниципальный район города, в котором Вы живёте / расположена Ваша школа?

Указания к оцениванию		Баллы
Правильно указаны название региона и его главный город / населённый пункт / округ / муниципальный район города		1
Правильно указано только название региона. ИЛИ Правильно указан только главный город региона / населённый пункт / округ / муниципальный район города. ИЛИ Ответ неправильный		0
<i>Максимальный балл</i>		<i>1</i>

10.2. Какие крупные города расположены на территории Вашего региона? Составьте краткое описание одного из них.

Критерии и указания к оцениванию		Баллы
К1	Указание крупных городов	1
	Правильно указаны крупные города, расположенные на территории региона. <i>При оценивании как правильный ответ засчитывается указание любого количества объектов (одного и более)</i>	1
	Крупные города, расположенные на территории региона, не указаны / указаны неправильно <i>Если по критерию К1 выставлен 0 баллов, то по критерию К2 выставляется 0 баллов</i>	0
К2	Описание одного из крупных городов	2
	Описание содержит основные географические сведения о городе. Фактических ошибок нет	2
	Описание содержит основные географические сведения о городе. Допущено не более двух фактических ошибок	1
	Приведены сведения, не соответствующие требованию задания	0
<i>Максимальный балл</i>		<i>3</i>

Система оценивания выполнения всей работы

Максимальный балл за выполнение работы – 37.

Рекомендации по переводу первичных баллов в отметки по пятибалльной шкале

Отметка по пятибалльной шкале	«2»	«3»	«4»	«5»
Первичные баллы	0–9	10–21	22–30	31–37