

Система оценивания проверочной работы

Оценивание кратких ответов на задания 2–4, 6.1, 6.2

Правильный ответ на каждое из заданий 3.2, 4, 6.1 и 6.2 оценивается 1 баллом.

Полный правильный ответ на каждое из заданий 2, 3.1 оценивается 2 баллами. Если в ответе допущена одна ошибка (в том числе написана лишняя цифра или не написана одна необходимая цифра), выставляется 1 балл; если допущено две или более ошибки – 0 баллов.

Полный правильный ответ на задание 3.3 оценивается 3 баллами. Если в ответе допущена одна ошибка (в том числе написана лишняя цифра или не написана одна необходимая цифра), выставляется 2 балла; если допущено две ошибки – 1 балл, более двух ошибок – 0 баллов.

Номер задания	Правильный ответ
2	12 или 21
3.1	А – Африка; Б – Евразия
3.2	1) обыкновенная белка; 2) носорог; 3) горилла; 4) берёза
3.3	Африка – 23 или 32; Евразия – 14 или 41
4	31
6.1	Влажность одинаковая, освещённость различная
6.2	Наличие света не влияет на прорастание семян. <i>(Может быть дана иная формулировка ответа, не искажающая его смысла.)</i>

Указания к оцениванию ответов на задания 1, 5, 6.3–10**1**

Внимательно рассмотри рисунок, на котором изображён кабинет. Внутренняя часть окна может быть изготовлена из стекла. Она отмечена на рисунке стрелкой с соответствующей надписью.

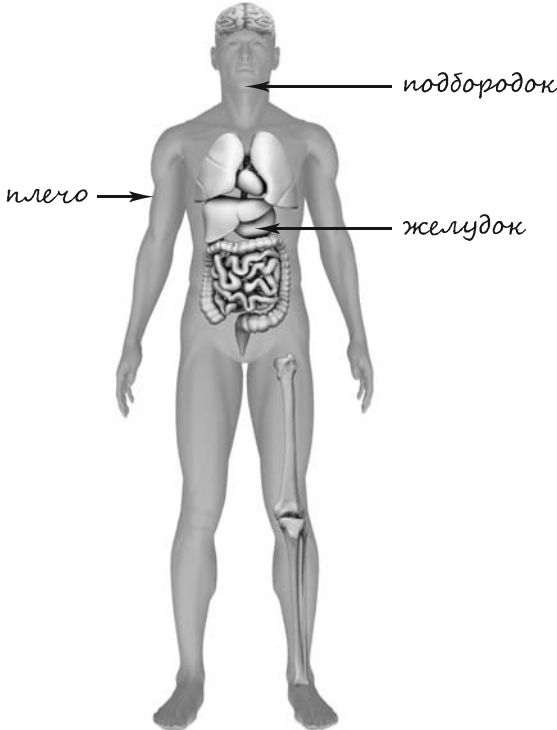
Какие предметы или детали среди изображённых на рисунке могут быть сделаны из дерева, а какие – из пластика?

Укажи на рисунке стрелкой любой предмет (деталь) из дерева и любой предмет (деталь) из пластика. Подпиши название соответствующего материала рядом с каждой стрелкой.

Содержание верного ответа и указания к оцениванию	Баллы
<p>Один из возможных вариантов ответа:</p>  <p>В качестве правильного ответа должно быть засчитано указание на рисунке любых других предметов (деталей), если они могут быть сделаны из соответствующих материалов. При оценивании засчитывается только указание предмета (детали) с подписью соответствующего материала, из которого предмет (деталь) сделан(-а)</p>	
Правильно указано по одному предмету (детали) из каждого материала с соответствующими подписями	2
Правильно указан(-ы) предмет(-ы) (деталь(-и)) только из одного материала с соответствующей подписью, предметы (детали) из второго материала указаны неверно или не указаны	1
Не указано верно ни одного предмета (детали)	0
<i>Максимальный балл</i>	2

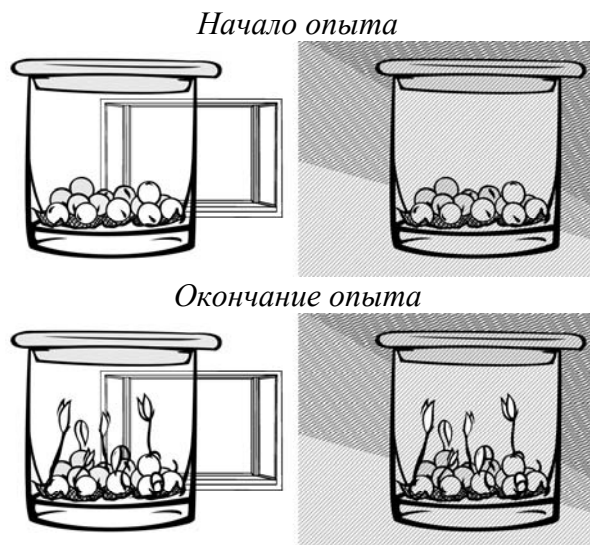
5

Рассмотри изображение человека. Так же, как на примере слева отмечено ухо, на изображении справа покажи стрелками и подпиши подбородок, плечо и желудок человека.

Содержание верного ответа и указания к оцениванию	Баллы
 <p><i>При оценивании засчитывается только указание части тела (органа) с соответствующей подписью. Для парных частей (органов) достаточно указать только одну из этих частей (органов)</i></p>	
Правильно указаны все три части тела (органа) с соответствующими подписями	2
Правильно указаны только любые две части тела (органа) с соответствующими подписями	1
Правильно указана только одна любая часть тела (орган) с соответствующей подписью. ИЛИ Все части тела (органы) указаны неправильно. ИЛИ Все части тела (органы) отмечены стрелками, но не подписаны. ИЛИ Ни одной части тела (органа) не указано	0
<i>Максимальный балл</i>	2

6

Лена проводила наблюдения за прорастанием семян гороха. Чтобы выяснить, влияет ли наличие света на прорастание, она взяла два стакана, положила в каждый из них влажную тряпочку и по десять одинаковых семян гороха. Один из стаканов она оставила в классе на столе, другой убрала в тёмный шкаф и стала наблюдать. Вскоре Лена обнаружила, что семена проросли в обоих стаканах.



6.3. Если бы Лена захотела выяснить, влияет ли температура на прорастание семян, с помощью какого эксперимента она смогла бы это сделать? Опиши этот эксперимент.

Содержание верного ответа и указания к оцениванию	Баллы
В ответе может быть дано такое <u>описание эксперимента</u> : взять два стакана, положить в каждый из них влажную тряпочку и по десять одинаковых семян гороха. Один стакан поставить в шкаф, а второй убрать в холодильник. Может быть дано иное, близкое по смыслу описание эксперимента	
В описании эксперимента верно отражены: – различия в условиях прорастания семян (одни при комнатной температуре, другие при пониженной); – сходства в условиях прорастания семян по влажности и освещённости	2
В описании эксперимента верно отражены только различия в условиях прорастания семян (одни при комнатной температуре, другие при пониженной)	1
В описании эксперимента не отражены / неверно отражены различия в условиях прорастания семян (одни при комнатной температуре, другие при пониженной). ИЛИ Описание эксперимента не приведено	0
<i>Максимальный балл</i>	2

7

Внимательно рассмотри знаки, которые можно встретить соответственно в парке, торговом центре и на улице.

Как ты думаешь, какое правило отражает каждый из этих знаков?
Напиши эти правила.



1)



2)




3)

Содержание верного ответа и указания к оцениванию	Баллы
<p><u>Правила</u> могут быть сформулированы так:</p> <p>1) Здесь запрещено купаться.</p> <p>2) В это помещение запрещено входить с мороженым.</p> <p>3) Здесь оказывают медицинскую помощь.</p> <p>Правила могут быть приведены в иных, близких по смыслу формулировках. В качестве верного ответа может быть принята не только строгая формулировка правила, но и любое объяснение, свидетельствующее о том, что обучающийся понимает соответствующее правило</p>	
Верно сформулированы три правила	2
Верно сформулированы только два любые правила	1
Верно сформулировано только одно любое правило.	0
ИЛИ Ответ неправильный	
<i>Максимальный балл</i>	2

8

На фотографиях изображены предметы, с которыми работают представители определённых профессий.

Выбери одну из фотографий и запиши букву, под которой она приведена. Представители какой профессии работают с изображённым(-и) на выбранной фотографии предметом(-ами)? Если ты знаешь много профессий, представители которых работают с выбранным(-и) тобой предметом(-ами), назови любую из них. Какую работу выполняют люди этой профессии? Чем работа людей этой профессии полезна обществу?



Критерии и указания к оцениванию		Баллы
К1	Определение профессии	1
	Правильно определена профессия (выбранное обучающимся изображение связано с названной им профессией). <i>При оценивании как правильный ответ засчитываются допустимые названия любого уровня конкретизации (например, рабочий, строитель, маляр)</i>	1
	Профессия не определена в явном виде / определена неправильно	0
	<i>Если профессия в явном виде не определена / определена неправильно и по критерию К1 выставлен 0 баллов, то по всем остальным позициям оценивания выставляется 0 баллов</i>	
К2	Пояснение характера работы <i>(При оценивании объём пояснения не учитывается; краткое пояснение, правильное по существу, может быть оценено максимальным баллом по данному критерию.)</i>	1
	Правильно пояснено, какую работу выполняют представители выбранной профессии	1
	Пояснение о том, какую работу выполняют представители выбранной профессии, отсутствует. ИЛИ Ответ неправильный	0
К3	Объяснение пользы для общества <i>(При оценивании в качестве правильного может быть принято объяснение любого объёма. Главное – конкретизация объяснения применительно к выбранной профессии.)</i>	1
	Дано уместное объяснение того, чем работа людей выбранной профессии полезна обществу	1
	Приведены рассуждения общего характера, не связанные с общественной значимостью конкретной профессии. ИЛИ Ответ неправильный	0
<i>Максимальный балл</i>		3

9

Как ты думаешь, чему ребёнок может научиться у своих родителей? (Напиши ответ объёмом до пяти предложений.)

Указания к оцениванию		Баллы
Дан уместный ответ на вопрос, отражающий в любой доступной обучающемуся форме роль родителей в воспитании детей		2
В ответе наряду с относящимися к сути вопроса имеются рассуждения общего характера		1
Ответ не относится к сути вопроса		0
<i>Максимальный балл</i>		2

10

10.1. Запиши название региона: республики, или области, или края, или автономного округа, в котором ты живёшь.

10.2. Как называется главный город твоего региона?

Указания к оцениванию		Баллы
Правильно указаны название региона и его главный город (принимается указание крупного города, находящегося в регионе)		2
Правильно указано только название региона. ИЛИ Правильно указан только главный город региона (принимается указание крупного города, находящегося в регионе)		1
Ответ неправильный		0
<i>Максимальный балл</i>		2

10.3. Производством каких товаров или продуктов известен твой регион?

Какие звери или птицы могут встретиться в природе твоего региона (назови не менее трёх зверей или птиц)? Опиши одного из этих зверей или птиц. Чем питается этот зверь или эта птица?

Критерии и указания к оцениванию		Баллы
К1	Указание товаров (продуктов), производством которых известен регион	1
	Правильно указан(-ы) товар(-ы) (продукты), производством которого(-ых) известен регион	1
	Товар(-ы) (продукты), производством которого(-ых) известен регион, не указан(-ы) или указан(-ы) неправильно	0
К2	Название животных, которые могут встретиться в природе региона	1
	Правильно названо не менее трёх животных	1
	Правильно названо только одно-два животных. ИЛИ Не названо правильно ни одного животного	0
К3	Рассказ об одном из животных	2
	Рассказ содержит корректное описание животного и указание на то, чем оно питается	2
	Рассказ содержит только корректное описание животного. ИЛИ Рассказ содержит описание животного и указание на то, чем оно питается. В рассказе допущены фактические ошибки, существенно не искажающие его смысла. ИЛИ Приведена только информация о том, чем животное питается	1
	Приведены рассуждения общего характера, не соответствующие требованию задания. ИЛИ Ответ неправильный	0
	<i>Максимальный балл</i>	

Система оценивания выполнения всей работы

Максимальный балл за выполнение работы – **30**.

Таблица перевода баллов в отметки по пятибалльной шкале

Отметка по пятибалльной шкале	«2»	«3»	«4»	«5»
Первичные баллы	0–7	8–16	17–24	25–30