

Проверочная работа
по предмету «ОКРУЖАЮЩИЙ МИР»

4 класс

Вариант 34

Инструкция по выполнению работы

На выполнение работы по предмету «Окружающий мир» даётся 45 минут. Работа состоит из двух частей и включает в себя 10 заданий.

Ответы на задания запиши в поле ответа в тексте работы.

При выполнении работы не разрешается пользоваться учебником, рабочими тетрадями и другими справочными материалами.

Советуем выполнять задания в том порядке, в котором они даны. Для экономии времени пропускай задание, которое не удаётся выполнить сразу, и переходи к следующему. Постарайся выполнить как можно больше заданий.

Желаем успеха!

Часть 1

1 Внимательно рассмотри рисунок, на котором изображён кабинет. Внутренняя часть окна может быть изготовлена из стекла. Она отмечена на рисунке стрелкой с соответствующей надписью.

Какие предметы или детали среди изображённых на рисунке могут быть сделаны из металла, а какие – из бумаги?

Укажи на рисунке стрелкой любой предмет (деталь) из металла и любой предмет (деталь) из бумаги. Подпиши название соответствующего материала рядом с каждой стрелкой.

стекло



2

На интернет-сайтах погоды можно встретить подобные таблицы. Внимательно изучи прогноз погоды на трое суток.

	Воскресенье, 31 декабря				Понедельник, 1 января				Вторник, 2 января			
	Ночь	Утро	День	Вечер	Ночь	Утро	День	Вечер	Ночь	Утро	День	Вечер
Облачность и атмосферные осадки												
Температура воздуха, °С	-15	-14	-8	-12	-18	-16	-14	-16	-20	-18	-17	-19
Ветер												
	С	СВ	В	В	В	В	В	В	В	СЗ	С	С
Влажность воздуха, %	75	73	73	73	69	70	68	74	65	70	71	76

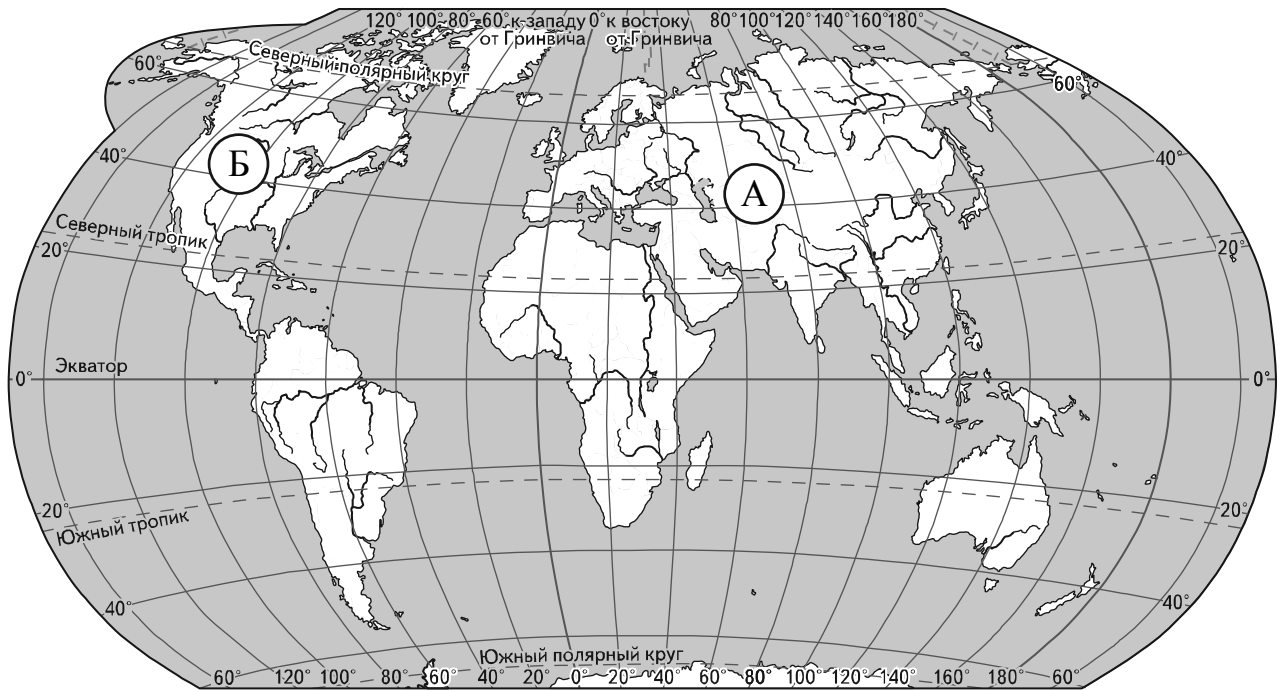
Выбери верные утверждения об ожидаемой погоде на эти трое суток и запиши в строку ответа их номера.

- 1) В воскресенье днём ожидается снег.
- 2) Наиболее холодным из трёх суток будет понедельник.
- 3) В понедельник ожидается восточный ветер.
- 4) На протяжении трёх суток влажность воздуха будет постепенно снижаться.

Ответ: _____

Рассмотри карту, фотографии и выполни задание 3.

3 Внимательно рассмотри карту. На ней буквами А и Б отмечены два материка.



3.1. Запиши название каждого материка в отведённое для этого поле.

Название материка **А**: _____ Название материка **Б**: _____

3.2. На следующей странице представлены изображения *дальневосточного леопарда, пумы, бизона и верблюда*. Запиши на строчках ниже название каждого из этих животных рядом с номером фотографии, на которой оно изображено.

1) _____ 2) _____
3) _____ 4) _____

3.3. Какие из этих животных обитают в естественной среде (не в зоопарке) на материке А, а какие – на материке Б? Запиши **номера**, под которыми указаны эти животные, в отведённое для этого поле после буквы соответствующего материка.

Номера животных **А**: _____ Номера животных **Б**: _____



1)



2)



3)



4)

4) Если правильно подобрать к началу каждой фразы из первого столбца продолжение фразы из второго столбца, то получится правило, помогающее человеку сохранить здоровье и жизнь. Составь два правила из приведённых частей фраз: для этого к каждой позиции первого столбца подбери соответствующую позицию из второго столбца.

Начало фразы

Продолжение фразы

А) Чтобы избежать травм при падении различных предметов во время сильного ветра,

1) надень непромокаемую обувь.
2) старайся находиться в местах, защищённых крышей.

Б) Чтобы не переохладиться после физической нагрузки,

3) избегай попадания под сильный ветер или в холодное помещение.

Запиши в таблицу выбранные цифры под соответствующими буквами.

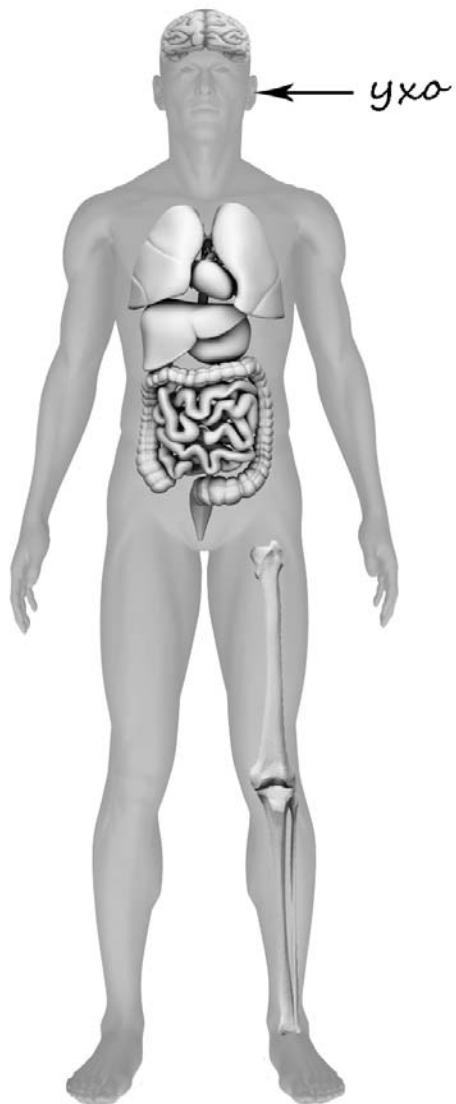


Ответ:

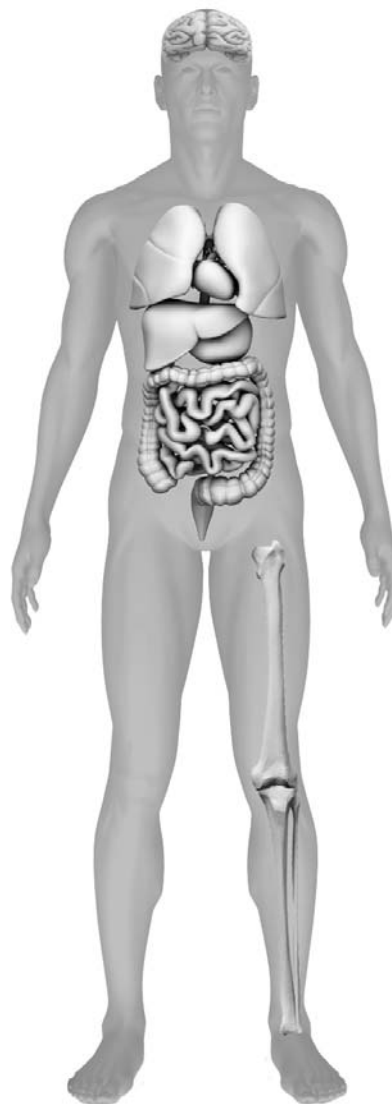
Начало фразы	А	Б
Продолжение фразы		

- 5) Рассмотрите изображение человека. Так же, как на примере слева отмечено ухо, на изображении справа покажите стрелками и подпишите подмышечную впадину, колено и сердце человека.

Пример:




Ответ:




6

Катя проводила наблюдения за прорастанием семян гороха. Чтобы выяснить, влияет ли почва на их прорастание, она взяла два стакана, положила в каждый из них десять одинаковых семян гороха. При этом в один стакан она насыпала немного почвы. Затем в каждый из стаканов она налила одинаковое небольшое количество воды. Стаканы Катя оставила в классе и стала наблюдать. Вскоре семена в стаканах проросли.

Начало опыта



Окончание опыта



6.1. Сравни условия прорастания семян гороха в двух разных стаканах в описанном эксперименте. Подчеркни в каждой строке одно из выделенных слов.

Температура семян в двух стаканах:

одинаковая / различная

Содержимое стаканов:

одинаковое / различное

6.2. По результатам эксперимента сделай вывод о том, влияет ли наличие почвы в стакане на прорастание семян.

Ответ: _____

6.3. Если бы Катя захотела выяснить, влияет ли наличие влаги на прорастание семян, с помощью какого эксперимента она смогла бы это сделать? Опиши этот эксперимент.

Ответ: _____

Часть 2

При выполнении заданий 7–10 последовательно отвечай на каждый из представленных вопросов. Ответы записывай чётко и разборчиво, соблюдая нормы речи.

7

Внимательно рассмотри знаки, которые можно встретить соответственно на улице, в парке и на этикетке одежды.

Как ты думаешь, какое правило отражает каждый из этих знаков?
Напиши эти правила.



1)



2)



3)

Правило 1: _____

Правило 2: _____

Правило 3: _____



8

На фотографиях изображены предметы, с которыми работают представители определённых профессий.

Выбери одну из фотографий и запиши букву, под которой она приведена. Представители какой профессии работают с изображённым(-и) на выбранной фотографии предметом(-ами)? Если ты знаешь много профессий, представители которых работают с выбранным(-и) тобой предметом(-ами), назови любую из них. Какую работу выполняют люди этой профессии? Чем работа людей этой профессии полезна обществу?

А)



Б)



В)



Выбранная фотография:

Ответ: _____

9 Люди много времени тратят на просмотр телевизионных передач. Как ты думаешь почему? (Напиши ответ объёмом до пяти предложений.)

Ответ: _____

10 10.1. Запиши название региона: республики, или области, или края, или автономного округа, в котором ты живёшь.

Ответ: _____

10.2. Как называется главный город твоего региона?

Ответ: _____

10.3. Какие река или озеро, побережье какого моря или какие горы есть в твоём регионе?

Ответ: _____

Какие звери или птицы могут встретиться в природе твоего региона (назови не менее трёх зверей или птиц)? Опиши одного из этих зверей или птиц. Чем питается этот зверь или эта птица?

Ответ: _____
