





**Степень и логарифм**

Свойства степени при  $a > 0, b > 0$

$$a^{-n} = \frac{1}{a^n}$$

$$a^n \cdot a^m = a^{n+m}$$

$$\frac{a^n}{a^m} = a^{n-m}$$

$$(a^n)^m = a^{nm}$$

$$(ab)^n = a^n \cdot b^n$$

$$\left(\frac{a}{b}\right)^n = \frac{a^n}{b^n}$$

Свойства логарифма при  $a > 0, a \neq 1, b > 0, x > 0, y > 0$

$$a^{\log_a b} = b$$

$$\log_a a = 1$$

$$\log_a 1 = 0$$

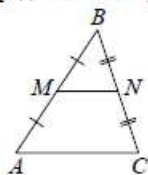
$$\log_a(xy) = \log_a x + \log_a y$$

$$\log_a\left(\frac{x}{y}\right) = \log_a x - \log_a y$$

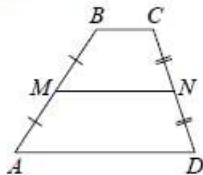
$$\log_a b^k = k \log_a b$$

**Геометрия**

Средняя линия треугольника и трапеции

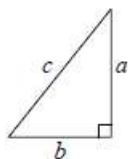


$MN$  — ср. лин.  
 $MN \parallel AC$   
 $MN = \frac{AC}{2}$



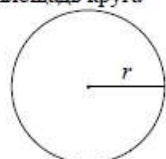
$BC \parallel AD$   
 $MN$  — ср. лин.  
 $MN \parallel AD$   
 $MN = \frac{BC + AD}{2}$

Теорема Пифагора



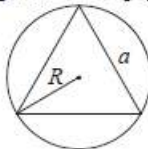
$$a^2 + b^2 = c^2$$

Длина окружности  
Площадь круга



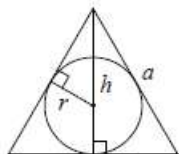
$C = 2\pi r$   
 $S = \pi r^2$

Правильный треугольник



$$R = \frac{a\sqrt{3}}{3}$$

$$S = \frac{a^2\sqrt{3}}{4}$$

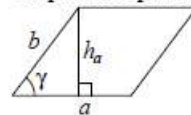


$$r = \frac{a\sqrt{3}}{6}$$

$$h = \frac{a\sqrt{3}}{2}$$

**Площади фигур**

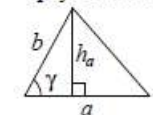
Параллелограмм



$$S = ah_a$$

$$S = ab \sin \gamma$$

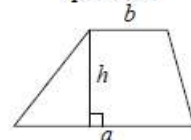
Треугольник



$$S = \frac{1}{2} ah_a$$

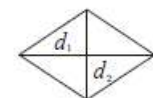
$$S = \frac{1}{2} ab \sin \gamma$$

Трапеция



$$S = \frac{a+b}{2} \cdot h$$

Ромб

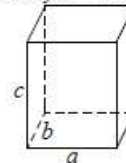


$d_1, d_2$  — диагонали

$$S = \frac{1}{2} d_1 d_2$$

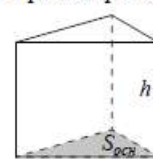
**Площади поверхностей и объёмы тел**

Прямоугольный параллелепипед



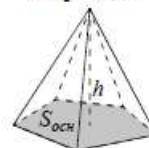
$$V = abc$$

Прямая призма



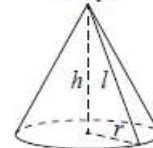
$$V = S_{осн} h$$

Пирамида



$$V = \frac{1}{3} S_{осн} h$$

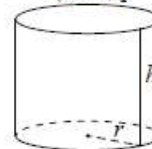
Конус



$$V = \frac{1}{3} \pi r^2 h$$

$$S_{бок} = \pi r l$$

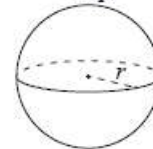
Цилиндр



$$V = \pi r^2 h$$

$$S_{бок} = 2\pi r h$$

Шар

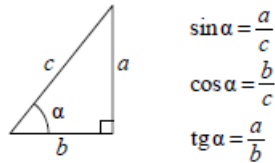


$$V = \frac{4}{3} \pi r^3$$

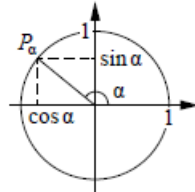
$$S = 4\pi r^2$$

**Тригонометрические функции**

Прямоугольный треугольник



Тригонометрическая окружность



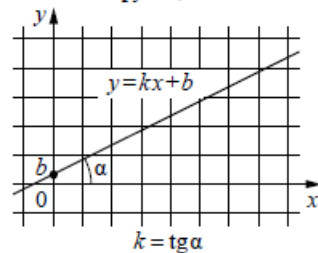
Основное тригонометрическое тождество:  $\sin^2 \alpha + \cos^2 \alpha = 1$

Некоторые значения тригонометрических функций

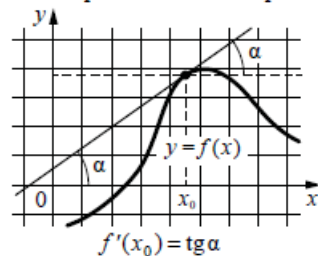
$\alpha$	радианы	0	$\frac{\pi}{6}$	$\frac{\pi}{4}$	$\frac{\pi}{3}$	$\frac{\pi}{2}$	$\pi$	$\frac{3\pi}{2}$	$2\pi$
	градусы	$0^\circ$	$30^\circ$	$45^\circ$	$60^\circ$	$90^\circ$	$180^\circ$	$270^\circ$	$360^\circ$
$\sin \alpha$		0	$\frac{1}{2}$	$\frac{\sqrt{2}}{2}$	$\frac{\sqrt{3}}{2}$	1	0	-1	0
$\cos \alpha$		1	$\frac{\sqrt{3}}{2}$	$\frac{\sqrt{2}}{2}$	$\frac{1}{2}$	0	-1	0	1
$\operatorname{tg} \alpha$		0	$\frac{\sqrt{3}}{3}$	1	$\sqrt{3}$	—	0	—	0

**Функции**

Линейная функция



Геометрический смысл производной



Ответом к каждому заданию является конечная десятичная дробь, целое число или последовательность цифр. Сначала запишите ответ к заданию в поле ответа в тексте работы, а затем перенесите в БЛАНК ОТВЕТОВ № 1 справа от номера соответствующего задания. Каждую цифру, знак «минус» и запятую пишите в отдельной клеточке в соответствии с приведёнными в бланке образцами. Единицы измерений писать не нужно.

**1** Найдите значение выражения  $1 + \frac{1}{7} \cdot 0,77$ .

Ответ: \_\_\_\_\_.

**2** Найдите значение выражения  $\frac{2^{-8} \cdot 2^8}{2^{-3}}$ .

Ответ: \_\_\_\_\_.

**3** В школе французский язык изучают 99 учащихся, что составляет 33% от числа всех учащихся школы. Сколько учащихся в школе?

Ответ: \_\_\_\_\_.

**4** Количество теплоты (в джоулях), полученное однородным телом при нагревании, вычисляется по формуле  $Q = cm(t_2 - t_1)$ , где  $c$  — удельная теплоёмкость (в  $\frac{\text{Дж}}{\text{кг}\cdot\text{К}}$ ),  $m$  — масса тела (в кг),  $t_1$  — начальная температура тела (в кельвинах), а  $t_2$  — конечная температура тела (в кельвинах). Пользуясь этой формулой, найдите  $Q$  (в джоулях), если  $t_2 = 608 \text{ К}$ ,  $c = 600 \frac{\text{Дж}}{\text{кг}\cdot\text{К}}$ ,  $m = 3 \text{ кг}$  и  $t_1 = 603 \text{ К}$ .

Ответ: \_\_\_\_\_.

ТРЕНИРОВОЧНЫЙ КИМ № 180326





5 Найдите значение выражения  $\frac{\log_7(4^6)}{3\log_7 4}$ .

Ответ: \_\_\_\_\_.

6 Летом килограмм клубники стоит 90 рублей. Маша купила 2 кг клубники. Сколько рублей сдачи она должна была получить с 500 рублей?

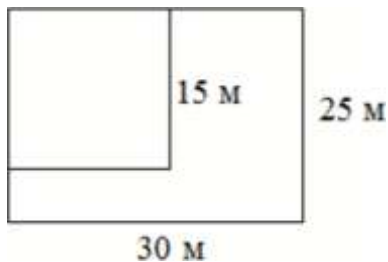
Ответ: \_\_\_\_\_.

7 Решите уравнение  $x^2 = 9$ .

Если уравнение имеет более одного корня, в ответе укажите меньший из них.

Ответ: \_\_\_\_\_.

8 Дачный участок имеет форму прямоугольника со сторонами 25 метров и 30 метров. Хозяин отгородил на участке квадратный вольер со стороной 15 м (см. рис.). Найдите площадь оставшейся части участка. Ответ дайте в квадратных метрах.



Ответ: \_\_\_\_\_.

9 Установите соответствие между величинами и их возможными значениями: к каждому элементу первого столбца подберите соответствующий элемент из второго столбца.

ВЕЛИЧИНЫ	ЗНАЧЕНИЯ
А) масса спелого грецкого ореха	1) 8 т
Б) масса грузовой машины	2) 10 г
В) масса собаки	3) 20 мг
Г) масса дождевой капли	4) 12 кг

В таблице под каждой буквой, соответствующей величине, укажите номер её возможного значения.

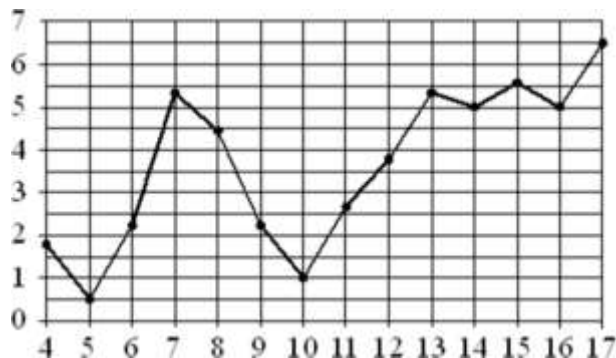
Ответ:

А	Б	В	Г

10 В среднем из 500 садовых насосов, поступивших в продажу, 25 подтекают. Найдите вероятность того, что случайно выбранный для контроля насос подтекает.

Ответ: \_\_\_\_\_.

- 11** На рисунке жирными точками показана среднесуточная температура воздуха в Риге за каждый день с 4 по 17 апреля 1980 года. По горизонтали указываются числа месяца, по вертикали – температура в градусах Цельсия. Для наглядности жирные точки соединены линией.



Определите по рисунку, какого числа среднесуточная температура была наименьшей за данный период.

Ответ: \_\_\_\_\_.

- 12** В таблице даны результаты олимпиад по физике и химии в 10 «А» классе.

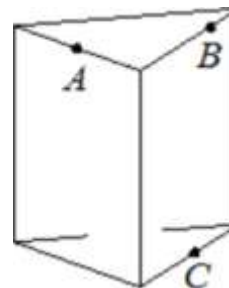
Номер ученика	Балл по физике	Балл по химии
1	84	91
2	87	84
3	96	96
4	73	58
5	43	79
6	76	75
7	93	41
8	75	84
9	76	89

Похвальные грамоты дают тем школьникам, у кого суммарный балл по двум олимпиадам больше 130 или хотя бы по одному предмету набрано не меньше 70 баллов.

Укажите номера учащихся 10 «А», набравших меньше 70 баллов по физике и получивших похвальные грамоты, без пробелов, запятых и других дополнительных символов.

Ответ: \_\_\_\_\_.

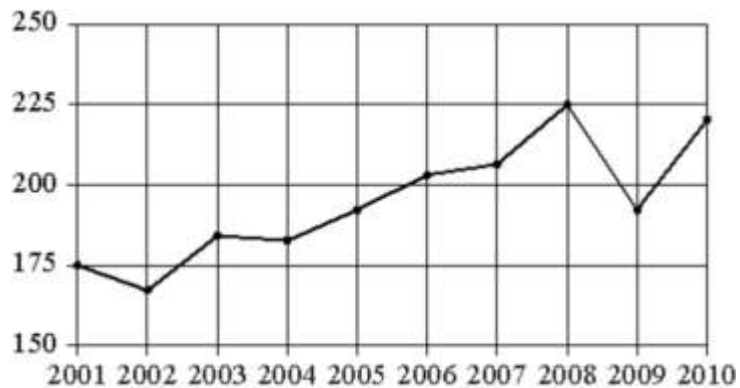
- 13** Плоскость, проходящая через точки  $A$ ,  $B$  и  $C$  (см. рис.), разбивает правильную треугольную призму на два многогранника. Сколько вершин у получившегося многогранника с меньшим числом граней?



Ответ: \_\_\_\_\_.



- 14** На рисунке точками показан годовой объём добычи угля в России открытым способом в период с 2001 по 2010 год. По горизонтали указывается год, по вертикали – объём добычи угля в миллионах тонн. Для наглядности точки соединены линиями.



Пользуясь рисунком, поставьте в соответствие каждому из указанных периодов времени характеристику добычи угля.

**ПЕРИОДЫ ВРЕМЕНИ**

- А) 2001-2003 гг.
- Б) 2003-2005 гг.
- В) 2005-2007 гг.
- Г) 2007-2009 гг.

**ХАРАКТЕРИСТИКИ**

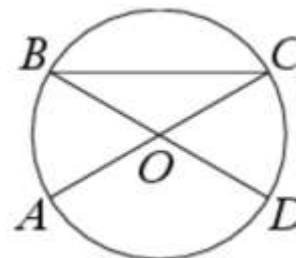
- 1) в течение периода объём добычи сначала рос, а затем стал падать
- 2) объём добычи в этот период рос с каждым годом
- 3) период с минимальным показателем добычи за 10 лет
- 4) годовой объём добычи составлял больше 175 млн т, но меньше 200 млн т

В таблице под каждой буквой укажите соответствующий номер.

Ответ:

А	Б	В	Г

- 15** В окружности с центром  $O$  отрезки  $AC$  и  $BD$  – диаметры. Центральный угол  $AOD$  равен  $124^\circ$ . Найдите угол  $ACB$ . Ответ дайте в градусах.



Ответ: \_\_\_\_\_.

- 16** Объём конуса равен  $60\pi$ , а его высота равна 5. Найдите радиус основания конуса.



Ответ: \_\_\_\_\_.



- 17** Число  $m$  равно  $\sqrt{0,5}$ .  
Каждому из четырёх чисел в левом столбце соответствует отрезок, которому оно принадлежит. Установите соответствие между числами и отрезками из правого столбца.

**ЧИСЛА**

- А)  $\sqrt{6 + m}$   
Б)  $-m - 1$   
В)  $m^2$   
Г)  $\frac{3}{m}$

**ОТРЕЗКИ**

- 1)  $[-2; -1]$   
2)  $[0; 1]$   
3)  $[2; 3]$   
4)  $[4; 5]$

Впишите в приведённую в ответе таблицу под каждой буквой соответствующий числу номер.

Ответ:

А	Б	В	Г

- 18** Хозяйка к празднику купила морс, мороженое, крабовые палочки и рыбу. Мороженое стоило дороже крабовых палочек, но дешевле рыбы, морс стоил дешевле мороженого. Выберите утверждения, которые верны при указанных условиях.

- 1) Морс стоил дешевле рыбы.
- 2) За морс заплатили больше, чем за мороженое.
- 3) Рыба – самая дорогая из покупок.
- 4) Среди указанных четырёх покупок есть три, стоимость которых одинакова.

В ответе запишите номера выбранных утверждений без пробелов, запятых и других дополнительных символов.

Ответ: \_\_\_\_\_.

- 19** Найдите пятизначное число, кратное 12, произведение цифр которого равно 40. В ответе укажите какое-нибудь одно такое число.

Ответ: \_\_\_\_\_.

- 20** Прямоугольник разбит на четыре меньших прямоугольника двумя прямыми разрезами. Площади трёх из них, начиная с левого верхнего и далее по часовой стрелке, равны 12, 18 и 30. Найдите площадь четвёртого прямоугольника.

12	18
?	30

Ответ: \_\_\_\_\_.





**О проекте «Пробный ЕГЭ каждую неделю»**

Данный ким составлен командой всероссийского волонтерского проекта «ЕГЭ 100 баллов» <https://vk.com/ege100ballov> и безвозмездно распространяется для любых некоммерческих образовательных целей.

**Нашли ошибку в варианте?**

**Напишите нам, пожалуйста, и мы обязательно её исправим!**

Для замечаний и пожеланий: [https://vk.com/topic-10175642\\_35994898](https://vk.com/topic-10175642_35994898)  
(также доступны другие варианты для скачивания)

**СОСТАВИТЕЛЬ ВАРИАНТА:**

<b>ФИО:</b>	Евгений Пифагор
<b>Предмет:</b>	Математика
<b>Стаж:</b>	6 лет репетиторской деятельности
<b>Регалии:</b>	Основатель и руководитель проекта Школа Пифагора
<b>Аккаунт ВК:</b>	<a href="https://vk.com/eugene10">https://vk.com/eugene10</a>
<b>Сайт и доп. информация:</b>	<a href="https://youtube.com/ШколаПифагора">https://youtube.com/ШколаПифагора</a>

**Система оценивания экзаменационной работы по математике (базовый уровень)**

Правильное решение каждого из заданий 1–20 оценивается 1 баллом. Задание считается выполненным верно, если экзаменуемый дал правильный ответ в виде целого числа или конечной десятичной дроби, или последовательности цифр.

№ задания	Ответ
1	1,11
2	8
3	300
4	9000
5	2
6	320
7	-3
8	525
9	2143
10	0,05
11	5
12	25
13	6
14	3421
15	28
16	6
17	3124
18	13
19	52212 или 25212 или 22512 или 22152 или 21252 или 12252
20	20

