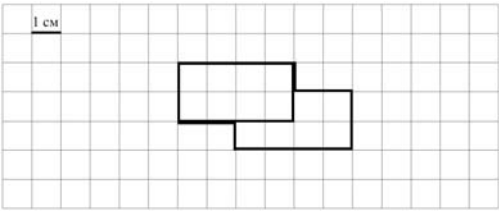
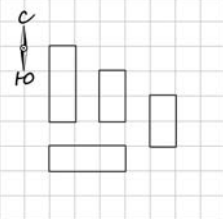


## Система оценивания проверочной работы

### Оценивание отдельных заданий

Номер задания	1	2	3	4	5.1	5.2	6.1	6.2	7	8	9.1	9.2	10	11	Итого
Балл	1	1	2	1	1	1	1	1	1	2	1	1	2	2	18

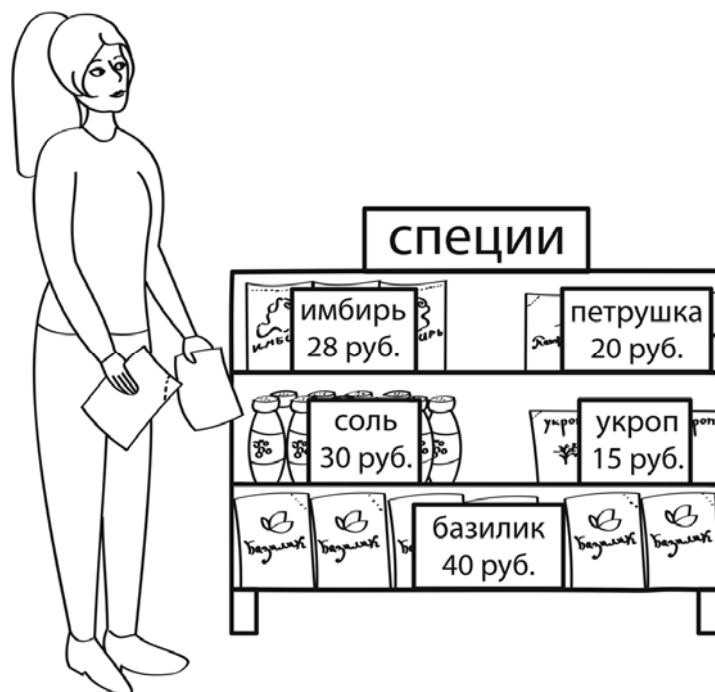
### Ответы

Номер задания	Правильный ответ
1	31
2	41
3	52 или 52 руб.
4	10 мин. Допускается любая иная форма указания времени.
5 пункт 1	20 см
5 пункт 2	 <p style="text-align: center;">Допускается любой иной чертёж, удовлетворяющий условию задачи</p>
6 пункт 1	9
6 пункт 2	Гусыни
7	4905
8	60 м
9 пункт 1	3
9 пункт 2	25
10	
11	300 руб.

### Решения и указания к оцениванию

3

Рассмотри рисунок и ответь на вопрос: сколько рублей сдачи получит покупатель, расплатившийся за один пакет имбиря и один пакет петрушки купюрой в 100 руб.?



Запиши решение и ответ.

Решение и указания к оцениванию	Баллы
Решение: $100 - (28 + 20) = 52$ (руб.). <b>Допускается другая последовательность действий, обоснованно приводящая к верному ответу, и другая форма записи решения.</b> Ответ: 52 руб.	
Сделан правильный выбор, получен верный ответ	2
Сделан правильный выбор, проведены необходимые вычисления, но сделана одна арифметическая ошибка, не нарушающая общей логики решения, в результате которой получен неверный ответ	1
Сделан неправильный выбор. ИЛИ Сделано более одной арифметической ошибки. ИЛИ Нарушена общая логика решения	0
<i>Максимальный балл</i>	2

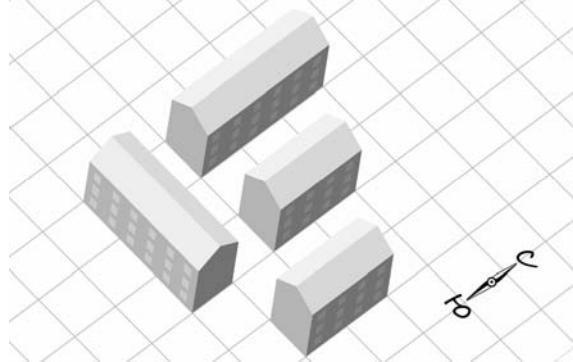
8

Две бригады рабочих выкладывают с двух сторон асфальтовую дорогу длиной в 2 км. На тот момент, когда бригады рабочих встретились, первая положила 10 участков по 80 м каждый, а вторая – 20 участков одинаковой длины. Участки какой длины (в метрах) кладёт вторая бригада?

Запиши решение и ответ.

Указания к оцениванию	Баллы
<p>Решение:  <math>2 \text{ км} = 2000 \text{ м}</math>            1) <math>10 \cdot 80 = 800 \text{ (м)}</math> – положила первая бригада            2) <math>2000 - 800 = 1200 \text{ (м)}</math> – положила вторая бригада            3) <math>1200 : 20 = 60 \text{ (м)}</math>.  <b>Должно быть также засчитано решение:</b>  <math>(2000 - 80 \cdot 10) : 20 = 60 \text{ (м)}</math>.</p> <p><b>Допускается другая последовательность действий и рассуждений, обоснованно приводящая к верному ответу.</b></p> <p>Ответ: 60 м</p>	
Проведены все необходимые преобразования и/или рассуждения, приводящие к ответу, получен верный ответ	2
Проведены все необходимые преобразования и/или рассуждения, приводящие к ответу, но допущена одна арифметическая ошибка, не нарушающая общей логики решения, в результате чего получен неверный ответ	1
Не проведены необходимые преобразования и/или рассуждения. ИЛИ Приведены неверные рассуждения. ИЛИ В рассуждениях и преобразованиях допущено более одной арифметической ошибки	0
<i>Максимальный балл</i>	2

- 10 На макете нового микрорайона дома размещены на клетчатом поле, причём стены домов расположены по границам клеток (см. рисунок).



Изобрази, как выглядят эти дома на плане местности. Сохраняй расположение домов относительно сторон света. Каждый дом изображай прямоугольником, составленным из клеток. В качестве примера один из домов уже изображён.

Одно из полей можно использовать как черновик.

Указания к оцениванию	Баллы
<p>Приведён верный рисунок. Допускаются неточности в изображении, обусловленные рукописным характером рисунка.</p> 	2
<p>Верно отражены размеры, взаимное расположение домов и их расположение относительно сторон света, но есть неточности в отображении положения домов: один или два дома изображены со смещением на одну клетку. Например:</p> 	1
<p>Неверно отражено взаимное расположение домов. ИЛИ Рисунок отсутствует</p>	0
<i>Максимальный балл</i>	2

11

Куртка на 700 руб. дешевле, чем пять шапок, но на 200 руб. дороже, чем две шапки. Сколько стоит шапка?

Запиши решение и ответ.

Указания к оцениванию	Баллы
Решение: Раз пять шапок дороже куртки на 700 руб., а две шапки дешевле куртки на 200 руб., то две шапки дешевле пяти шапок на 900 руб. Значит, три шапки стоят 900 руб., а тогда одна шапка стоит 300 руб.  <b>Допускается другая последовательность действий и рассуждений, обоснованно приводящая к верному ответу.</b>  Ответ: 300 руб.	
Проведены все необходимые преобразования и/или рассуждения, приводящие к ответу, получен верный ответ	2
Проведены все необходимые преобразования и/или рассуждения, приводящие к ответу, но допущена одна арифметическая ошибка, не нарушающая общей логики решения, в результате чего получен неверный ответ. ИЛИ В решении ошибок нет, но посчитана стоимость куртки	1
Не проведены необходимые преобразования и/или рассуждения. ИЛИ Приведены неверные рассуждения. ИЛИ В рассуждениях и преобразованиях допущено более одной арифметической ошибки	0
<i>Максимальный балл</i>	2

### Система оценивания выполнения всей работы

Максимальный балл за выполнение работы – 18.

*Таблица перевода баллов в отметки по пятибалльной шкале*

Отметка по пятибалльной шкале	«2»	«3»	«4»	«5»
Первичные баллы	0–5	6–9	10–12	13–18

Обучающимся, набравшим 16–18 баллов, по решению ОО может быть выставлено две отметки «5». Кроме того, рекомендуется обеспечить возможности для развития математических способностей у таких обучающихся.