

Министерство образования и науки Республики Татарстан
РЕСПУБЛИКАНСКАЯ ОЛИМПИАДА ШКОЛЬНИКОВ ПО ОСНОВАМ
БЕЗОПАСНОСТИ ЖИЗНЕДЕЯТЕЛЬНОСТИ
(ШКОЛЬНЫЙ ЭТАП)

« ____ » _____ 2017 г.

Республика Татарстан

ТЕОРЕТИЧЕСКИЙ ТУР
3 - 4 класс

| | | |
|-----------------------|--|--|
| Впишите свой код/шифр | | |
| | | |

Уважаемый участник Олимпиады!

При выполнении заданий теоретического тура Вам предстоит выполнить определенную работу, которую лучше организовать следующим образом:

– не спеша, внимательно прочитайте задание и входящие в него вопросы или ситуации;

– определите, наиболее верный и полный ответ;

– если вы отвечаете на теоретический вопрос, обдумайте и сформулируйте конкретный ответ только на поставленный вопрос;

– если вы отвечаете на предложенную ситуацию, обдумайте порядок и последовательность действий по предложенной ситуации и впишите ответы в схему в той последовательности, которую вы определили, при этом ответ должен быть кратким, но содержать необходимую информацию;

– если вы отвечаете на задание, связанное с заполнением таблицы, не старайтесь детализировать информацию, вписывайте только те сведения или данные, которые указаны в вопросе или верхних графах;

– после выполнения всех предложенных заданий еще раз удостоверьтесь в правильности выбранных вами ответов и решений;

Задание теоретического тура по данной предметной секции считается выполненным, если Вы вовремя сдаете его членам жюри.

Желаем вам успеха!

Оценка за Теоретический блок _____ баллов (максимальная 70 баллов)

Оценка за Блок тестирования _____ баллов (максимальная 30 баллов)

Оценка результата участника за ТЕОРЕТИЧЕСКИЙ ТУР _____ баллов

(максимально за теоретический тур 100 баллов)

ЗАДАНИЯ ТЕОРЕТИЧЕСКОГО ТУРА

Задание 1. В далеком прошлом люди думали, что Земля – не шар, а плоская «тарелка», у которой есть край. Краем земли люди считали линию «горизонта». Дополните определение.

Горизонт – _____

Оценочные баллы: максимально – 10 баллов;

Фактически набранные баллы за задание - _____ .

Подписи членов жюри _____

Задание 2. При пожаре можно получить ожог. Это очень болезненная травма. Напишите: какую первую помощь нужно оказать при небольшом ожоге?







1. _____
2. _____
3. _____
4. _____
5. _____

Оценочные баллы: максимально – 10 баллов;

фактически набранные баллы за задание - _____ .

Подписи членов жюри _____


Задание 3. Заполните схему, указав значение знаков пожарной безопасности.


| | |
|---|--|
|  | |
|  | |
|  | |
|  | |

Оценочные баллы: максимально – 10 баллов;

фактически набранные баллы за задание - _____ .

Задание 4. Заполните памятку по пожарной безопасности, указав основные причины пожара и действие при пожаре.

 **ПАМЯТКА**
ПО ПОЖАРНОЙ БЕЗОПАСНОСТИ



ПРИЧИНЫ ПОЖАРА:

-
-
-




ДЕЙСТВИЯ ПРИ ПОЖАРЕ:

-
-
-
-
-
-
-



01



Оценочные баллы: максимально – 10 баллов;
фактически набранные баллы за задание - _____ .
Подписи членов жюри _____

Задание 5. Соедините стрелками название групп дорожных знаков с соответствующими им картинок.



Предупреждающие

Запрещающие

Предписывающие и информационные знаки

Знаки сервиса

Регулирование движения

*Оценочные баллы: максимально – 10 баллов;
фактически набранные баллы за задание - _____ .
Подписи членов жюри _____*

Задание 6. Поставьте галочку «V» в левых квадратиках где представлены основные правила дорожной безопасности школьника.

- | | |
|--------------------------|--|
| <input type="checkbox"/> | Все участники дорожного движения должны придерживаться правой стороны при движении: автомобилисты – на проезжей части, пешеходы – на тротуаре. |
| <input type="checkbox"/> | Светофор имеет 3 вида сигнала: красный, зеленый и желтый (для пешеходов светофор имеет 2 вида: красный и зеленый). Красный свет означает «остановись, хода нет», желтый – «внимание», зеленый – «путь свободен». |
| <input type="checkbox"/> | Кататься можно, по дороге и по тротуару . |
| <input type="checkbox"/> | Дорогу переходить только бегом, на перегонки с машиной. |
| <input type="checkbox"/> | Если нет светофора, переходить улицу следует только по пешеходному переходу (наземному или подземному). |
| <input type="checkbox"/> | Переходя улицу, следует убедиться, что опасность в виде приближающегося транспорта отсутствует. |

Автобус, троллейбус следует обходить сзади, трамвай – спереди.

*Оценочные баллы: максимально– 10 баллов;
фактически набранные баллы за задание - _____ .
Подписи членов жюри _____*

Задание 7. Перечислите основной порядок оказания первой помощи при носовом кровотечении.

- _____
_____;
- _____
_____;
- _____
_____;
- _____
_____.

*Оценочные баллы: максимально– 10 баллов;
фактически набранные баллы за задание - _____ .
Подписи членов жюри _____*

| Баллы за задания Теоретического блока | | | | | | | |
|--|---|---|---|---|---|---|---|
| <i>№ задания</i> | 1 | 2 | 3 | 4 | 5 | 6 | 7 |
| <i>Кол-во баллов</i> | | | | | | | |

*Подписи председателя жюри _____
Подписи членов жюри _____*

ЗАДАНИЯ ТЕОРЕТИЧЕСКОГО ТУРА (Блок тестирования)

| № п/п | Тестовые задания | Макс. балл | Кол-во набранных баллов |
|---|--|------------|-------------------------|
| 1 | 2 | 3 | 4 |
| Определите один правильный ответ | | | |
| 1. | <p>Выбери правильный ответ. При возникновении пожара в школе первоклассник должен:</p> <p>а) начать его тушить; б) бежать от него спасаться; в) строго следовать указаниям учителя.</p> | 1 | |
| 2. | <p>Корни этого растения слаще яблока, листья укрепляют кости и зубы, сок очищает кровь, а пыльца и нектар цветов помогают росту человека.</p> <p>а) одуванчик б) подорожник в) крапива</p> | 1 | |
| 3. | <p>Где должен остановиться пешеход, если посередине проезжей части его застал красный сигнал светофора?</p> <p>а) вернуться к тротуару, от которого начал переход проезжей части; б) закончить переход, дойдя до тротуара или обочины, на противоположной стороне дороги; в) должен остановиться на линии, разделяющей транспортные потоки противоположных направлений.</p> | 1 | |
| 4. | <p>Вы встали на рассвете, и видите восходящее солнце, вы стали лицом к нему. Стало быть, в той стороне;</p> <p>а) север б) запад в) восток г) юг</p> | 1 | |
| 5. | <p>Чем опасна утечка газа?</p> <p>а) Неприятным запахом и порчей мебели; б) Расходам газа; в) Отравлением и возможным возникновением взрыва и пожара; г) Ничем особенным - газ рассеется в воздухе.</p> | 1 | |
| 6. | <p>Изображение большого участка Земли называется:</p> <p>а) схема б) план в) карта г) модель</p> | 1 | |
| 7. | <p>Разрешается ли передвигаться пешеходам по обочинам?</p> <p>а) разрешается; б) не разрешается при переноске громоздких предметов; в) не разрешается; г) разрешается только при сопровождении лиц в инвалидных колясках.</p> | 1 | |

| | | | |
|---|--|---|--|
| 8. | Какой буквой обозначается север на компасах? а) S б) N в) W г) E | 1 | |
| 9. | Представьте, что вы пошли запускать петарды, но нарушили правила, и на вас загорелась одежда, а рядом никого нет. Что нужно сделать? а) быстро бегать, тогда пламя погаснет само; б) бежать к взрослым, они помогут; в) падать и кататься по земле | 1 | |
| 10 | Листья какого растения можно употреблять в умеренных дозах? а) дурмана; б) лапчатки; в) липы; г) щавеля. | 1 | |
| 11 | Двигаясь по лесу, вы потеряли ориентировку. Как вы поступите: а) сразу же прекратите движение и попытаетесь восстановить ориентировку с помощью компаса или природных признаков; б) ускорите темп и продолжите движение; в) будете двигаться в обратном направлении. | 1 | |
| 12 | Какие средства могут понадобиться при ожоге: а) крем; б) холодная вода; в) йод или зеленка. | 1 | |
| 13 | Ученик на экзамене не может вспомнить, от чего возникает такое нарушение зрения, как «куриная слепота».... а) при недостатке в организме витамина А; б) при недостатке витамина С; в) при отравлении избытком витамина А; г) при помутнении хрусталика. | 1 | |
| 14 | Единый номер вызова экстренной службы. а) 103; б) 101; в) 102; г) 112. | 1 | |
| 15 | Для чего используют огнетушитель? а) для тушения пожара; б) для игр дома; в) для декорации в школе; г) для тушения небольшого возгорания. | 1 | |
| Определите все правильные ответы | | | |
| 16 | Из перечисленных предметов зачеркни те, игры с которыми могут привести к пожару. 1. Тетрис 2. Телевизор 3. Зажигалка 4. Кубики 5. Свечка 6. Фломастер 7. Конструктор 8. Бенгальские огни 9. Спички 10. Утюг 11. Мяч 12. Компьютер. | 7 | |

| | | | |
|--------------------------|---|---------------|--|
| 17 | Для оказания первой помощи при укусе пчелы необходимо: а) потереть место укуса землёй; б) удалить жало; в) наложить стерильную повязку; г) зафиксировать конечность; д) обработать ранку антисептиком и приложить холод. | 2 | |
| 18 | Во время игры дома твой младший братишка разбил нос. Выберите необходимые действия. а) усадить его, сильно запрокинув голову назад; б) усадить его, слегка наклонив вперед; в) зажать ноздри большим и указательным пальцами на 5–10 мин; г) приложить к поврежденному месту холодный компресс; д) приложить к поврежденному месту теплый компресс; е) успокоить братишку. | 4 | |
| 19 | Какие ядовитые растения и грибы можно встретить в лесу? а) вороний глаз, ландыш, волчье лыко; б) клюква, черника, малина; в) ложные опята, мухомор, бледная поганка. | 2 | |
| Количество баллов | | max 30 | |

Оценочные баллы: максимально – 30 баллов;

фактически набранные баллы за Блок тестирования - _____ .

Подпись председателя жюри _____

Подписи членов жюри _____