

**Министерство образования и науки Республики Татарстан**  
**ВСЕРОССИЙСКАЯ ОЛИМПИАДА ШКОЛЬНИКОВ ПО ОСНОВАМ**  
**БЕЗОПАСНОСТИ ЖИЗНЕДЕЯТЕЛЬНОСТИ**  
**(МУНИЦИПАЛЬНЫЙ ЭТАП)**

---

---

« \_\_\_\_\_ » \_\_\_\_\_ 2016 г.

Республика Татарстан

**ТЕОРЕТИЧЕСКИЙ ТУР**  
**5 - 6 классы**

Впишите свой код/шифр		

***Уважаемый участник Олимпиады!***

*При выполнении заданий теоретического тура Вам предстоит выполнить определенную работу, которую лучше организовать следующим образом:*

*– не спеша, внимательно прочитайте задание и входящие в него вопросы или ситуации;*

*– определите, наиболее верный и полный ответ;*

*– если вы отвечаете на теоретический вопрос, обдумайте и сформулируйте конкретный ответ только на поставленный вопрос;*

*– если вы отвечаете на предложенную ситуацию, обдумайте порядок и последовательность действий по предложенной ситуации и впишите ответы в схему в той последовательности, которую вы определили, при этом ответ должен быть кратким, но содержать необходимую информацию;*

*– если вы отвечаете на задание, связанное с заполнением таблицы, не старайтесь детализировать информацию, вписывайте только те сведения или данные, которые указаны в вопросе или верхних графах;*

*– после выполнения всех предложенных заданий еще раз удостоверьтесь в правильности выбранных вами ответов и решений;*

***Задание теоретического тура по данной предметной секции считается выполненным, если Вы вовремя сдаете его членам жюри.***

***Желаем вам успеха!***

Оценка за Теоретический блок \_\_\_\_\_ баллов (максимальная 70 баллов)

Оценка за Блок тестирования \_\_\_\_\_ баллов (максимальная 30 балла)

**Оценка результата участника за ТЕОРЕТИЧЕСКИЙ ТУР \_\_\_\_\_ баллов**

**(максимально за теоретический тур 100 баллов)**

## ЗАДАНИЯ ТЕОРЕТИЧЕСКОГО ТУРА

**Задание 1. Дайте определение понятий:**

**а) Опасная (экстремальная) ситуация –** \_\_\_\_\_

\_\_\_\_\_

**б) Чрезвычайная ситуация -** \_\_\_\_\_

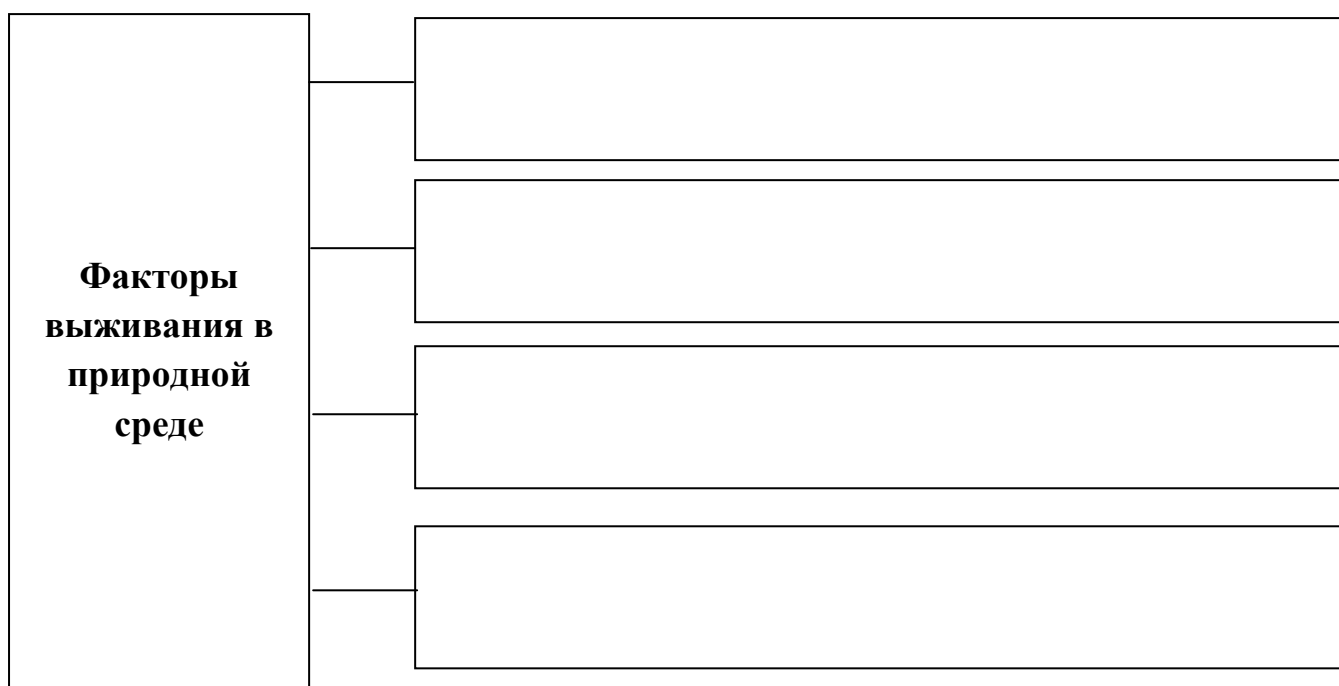
\_\_\_\_\_

*Оценочные баллы: максимально – 10 баллов;*

*Фактически набранные баллы за задание - \_\_\_\_\_ .*

*Подписи членов жюри \_\_\_\_\_*

**Задание 2. Заполните схему факторов выживания в природных условиях.**








*Оценочные баллы: максимально – 10 баллов;*

*Фактически набранные баллы за задание - \_\_\_\_\_ .*

*Подписи членов жюри \_\_\_\_\_*

**Задание 3. Впишите в правых окошках название (значение) изображенных знаков пожарной безопасности.**

**Оценочные баллы:** максимально – 10 баллов;

Фактически набранные баллы за задание - \_\_\_\_\_ .

Подписи членов жюри \_\_\_\_\_

**Задание 4. Заполните таблицу указав какие опасные ситуации возможны в доме (квартире).**

Значение опасной ситуации	Причины возникновения опасных ситуаций
	В результате неисправности электропроводки или электротехники, неосторожное обращение с огнем;
	В результате утечки газа из-за оставленной невыключенной плиты;
	В результате неисправности водопровода или из-за незакрытого крана, неисправной стиральной машины;
	Газом или химическими препаратами;
	Из-за нарушения правил безопасности при использовании электроприборами и электрооборудованием;
	В результате землетрясения или взрыва;

**Оценочные баллы:** максимально – 10 баллов;

Фактически набранные баллы за задание - \_\_\_\_\_ .

Подписи членов жюри \_\_\_\_\_

**Задание 5.** Для передачи информации спасателям, можно использовать и специальные знаки международной кодовой таблицы символов. Укажите стрелками соответствие значений представленных знаков.



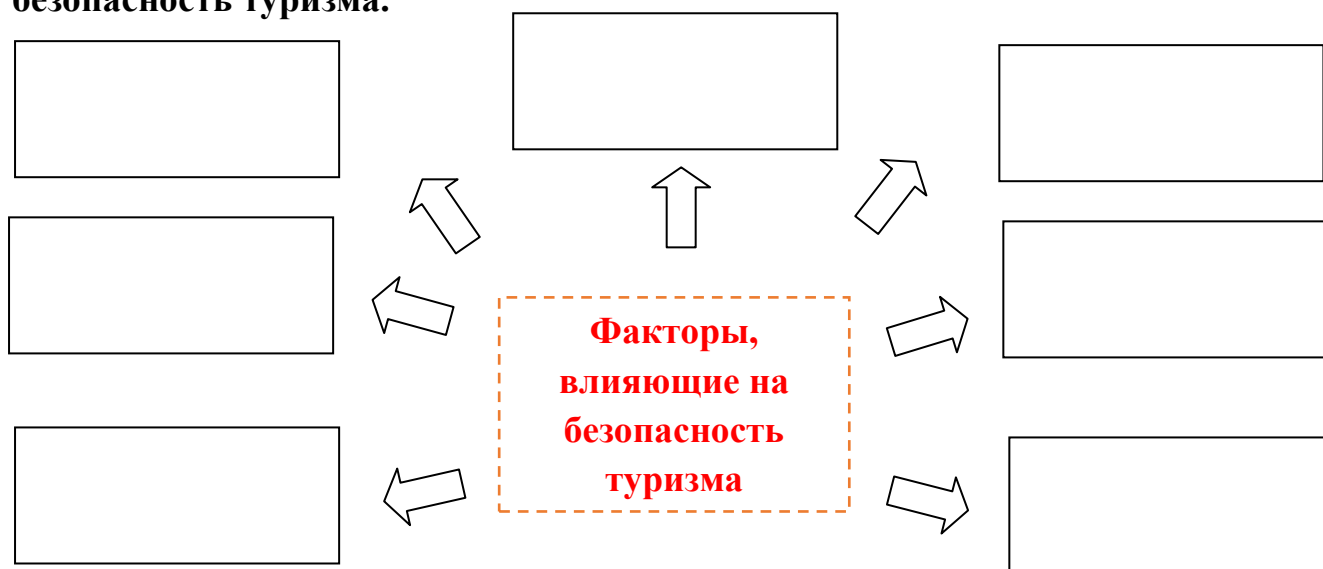
- 1 - Да
- 2 - Все в порядке
- 3 - не можем дальше двигаться
- 4 - Необходима вода и еда
- 5 - Укажите направление к спасению
- 6 - Необходимы карта и компас
- 7 – Следуем в этом направлении
- 8 – Здесь можно безопасно совершить посадку
- 9 - необходимы медикаменты
- 10 – Нет
- 11 - нужен врач

*Оценочные баллы: максимально– 10 баллов;*

*Фактически набранные баллы за задание - \_\_\_\_\_ .*

*Подписи членов жюри \_\_\_\_\_*

**Задание 6.** Заполните схему, вписав основные факторы, влияющие на безопасность туризма.



*Оценочные баллы: максимально– 10 баллов;*

*Фактически набранные баллы за задание - \_\_\_\_\_ .*

*Подписи членов жюри \_\_\_\_\_*

**Задание 7. Опишите основные действия по оказанию первой помощи при вывихе.**

1. \_\_\_\_\_  
\_\_\_\_\_  
\_\_\_\_\_
2. \_\_\_\_\_  
\_\_\_\_\_
3. \_\_\_\_\_  
\_\_\_\_\_
4. \_\_\_\_\_  
\_\_\_\_\_  
\_\_\_\_\_

**Оценочные баллы:** максимально – 10 баллов;

Фактически набранные баллы за задание - \_\_\_\_\_ .


Подписи членов жюри \_\_\_\_\_

<b>Баллы за задания Теоретического блока</b>							
<i>№ задания</i>	1	2	3	4	5	6	7
<i>Кол-во баллов</i>							

Подпись председателя жюри \_\_\_\_\_

Подписи членов жюри \_\_\_\_\_

## ЗАДАНИЯ ТЕОРЕТИЧЕСКОГО ТУРА (Блок тестирования)

№ п/п	Тестовые задания	Макс. балл	Кол-во набранных баллов
1	2	3	4
<b>Определите один правильный ответ</b>			
1.	<p><b><i>Где должны двигаться организованные группы?</i></b></p> <p>а) По тротуару в два ряда;  б) по краю проезжей части в два ряда;  в) только по направлению движения транспортных средств по правой стороне не более чем по четыре человека в ряд.</p>	1	
2.	<p><b><i>Установите направление движения на 200 градусов по азимуту.</i></b></p> <p>а) юго-восток.  б) запад.  в) юг.  г) юго-запад.</p>	1	
3.	<p><b><i>Какое созвездие используется для определения сторон горизонта ночью?</i></b></p> <p>а) созвездие Южный крест.  б) Млечный путь.  в) созвездие Москва-Кассиопея.  г) созвездие Большой медведицы.</p>	1	
4.	<p><b><i>Вы пришли домой, поставили полный чайник на газовую плиту и, закрыв дверь на кухню, пошли смотреть телевизор. Вдруг почувствовали запах газа. На улице сумерки. Какова очередность ваших дальнейших действий:</i></b></p> <p>а) включить свет и посмотреть, в чем причина утечки газа, открыть окно, пойти к соседям и позвонить в аварийную службу;  б) выключить телевизор, перекрыть газовый кран, открыть окно, плотно закрыть дверь в кухню;  в) зайти на кухню, перекрыть газовый кран, открыть окно, плотно закрыть дверь в кухню, пойти к соседям и позвонить в аварийную службу.</p>	1	
5.	<div style="text-align: center;">  </div> <p style="text-align: center;"><b><i>Этот знак называется:</i></b></p> <p>а) Дорога с полосой для велосипедистов;  б) Пешеходная и велосипедная дорожка с разделением движения;  в) Пешеходная и велосипедная дорожка с совмещенным движением.</p>	1	

6.	<p><b>Группа детей отправилась в туристический поход. С одним из участников похода произошёл несчастный случай – его укусила змея. Место укуса – задняя поверхность голени в средней трети. Что нельзя делать с потерпевшим?</b></p> <p>а) Обработать ранку раствором антисептика;  б) Наложить давящую повязку на пострадавшую часть конечности;  в) Наложить кровоостанавливающий жгут выше места укуса;  г) Попросить пострадавшего после оказания первой помощи самостоятельно продолжить движение.</p>	1	
7.	<p><b>Какое из перечисленных средств относится к предохранительному средству спасения на воде?</b></p> <p>а) шары Сулова;  б) конец Александрова;  в) спасательный жилет;  г) любое из перечисленных средств.</p>	1	
8.	<p><b>Вы находитесь на льду водоёма. Что вы будете делать, если под Вами начал потрескивать лёд?</b></p> <p>а) постараюсь как можно быстрее добраться до любого ближайшего берега;  б) осторожно поверну обратно и скользящими шагами вернусь к берегу по пройденному пути;  в) медленно и осторожно поверну обратно, и быстро покину место по пройденному пути;  г) постараюсь скользящими шагами добраться до любого ближайшего берега.</p>	1	
9.	<p><b>Вы долго гуляли на улице зимой и катались на горке с друзьями. Очень сильно замерзли руки, кожа побледнела, появились признаки обморожения. Выберите действие, которое нельзя делать при обморожении:</b></p> <p>а) Обогреть кисти рук у открытого огня  б) Укрыться теплым пледом;  в) Выпить горячего чая;  г) Сделать теплую ванночку для рук.</p>	1	
10	<p><b>Сколько часов необходимо спать школьнику 10-12 лет?</b></p> <p>а) 6-8 часов;  б) 8-10 часов;  в) 10-12 часов.</p>	1	

11	<p><b>Вам необходимо перебраться вброд через реку с быстрым течением. Каким из способов вы будете переходить ее в выбранном вами месте?</b></p> <p>а) вниз по течению;  б) перпендикулярно течению реки;  в) против течения;  г) под углом 40 градусов к нему.</p>	1	
12	<p><b>В каком возрасте движение велосипедистов должно осуществляться только по тротуарам, пешеходным, велосипедным и велопешеходным дорожкам, а также в пределах пешеходных зон?</b></p> <p>а) От 3 до 6 лет;  б) От 7 до 14 лет;  в) От 14 до 16 лет</p>	1	
13	<p><b>Вы находитесь в лесу и зовете на помощь товарища. Как вы должны кричать или давать знать о себе, чтобы вас услышали с большого расстояния?</b></p> <p>а) громко, но низким тоном;  б) пронзительно;  в) свистеть с помощью пальцев.</p>	1	
14	<p><b>Какое количество суставов необходимо иммобилизовать при переломе бедра или плеча?</b></p> <p>а) два  б) три  в) четыре  г) количество не имеет значения</p>	1	
15	<p><b>В каком случае пешеход может двигаться по проезжей части вместо тротуара или пешеходной дорожки?</b></p> <p>а) всегда, когда захочет;  б) при переноске громоздких предметов;  в) при ведении детской коляски.</p>	1	
16	<p><b>Максимальный пик работоспособности приходится на период времени:</b></p> <p>а) с 12:00 до 14:00;  б) с 07:00 до 10:00;  в) с 21:00 до 00:00;  г) весь день</p>	1	
17	<p><b>При приготовлении пищи, на сковороде загорелся жир. Ваши действия?</b></p> <p>а) Зальете огонь водой.;  б) Накинете на сковороду влажную тряпку.;  в) Выключите газ. Сковороду плотно накроете крышкой.</p>	1	



18	<b>Ученик, пытаясь поправить здоровье и память перед экзаменами, съел целую коробку поливитаминов и попал в больницу. Доктор объяснил пострадавшему что это нарушение называется...</b> а) гипervитаминоз б) гиповитаминоз в) авитаминоз г) бери-бери	1	
19	<b>Как себя обезопасить, если тебя в лесу застала гроза?</b> а) спрячусь под большое дерево б) спрячусь в кусты; в) выйду на поляну, где нет деревьев.	1	
20	<b>Какую пищу необходимо чаще необходимо чаще употреблять, чтобы укрепить зубы?</b> а) продукты содержащие животные и растительные жиры; б) мясные продукты; в) рыбу и морепродукты; г) яблоки, морковь, орехи, семечки подсолнуха, оливки, сыр.	1	
21	<b>Какой из перечисленных способов обеззараживания воды является наиболее надежным? Выберите ответ:</b> а) пропускание воды через активированный уголь; б) обеззараживание с помощью марганцовки; в) кипячение.	1	
<b>Определите все правильные ответы</b>			
22	<b>Недостаток йода в организме можно восполнить, употребляя:</b> а) хлебобулочные изделия; б) йодированную соль; в) молочные продукты; г) морепродукты.	2	
23	<b>Из ниже перечисленных объектов выберите те, которые могут являться линейными ориентирами:</b> а) автомагистраль; б) горная река; в) движущийся автотранспорт и сельскохозяйственная техника; г) высоковольтная линия электропередач.	2	
24	<b>От включенной электрогирлянды произошло возгорание искусственной елки высотой 1 м 80 см в комнате жилого дома. Выберите необходимые действия.</b> а) Немедленно облить елку большим количеством воды; б) Обесточить электрогирлянду; в) Повалить елку на пол; г) Залить горящую елку большим количеством воды; д) Набросить на горящую елку плотную материю (плед с дивана, одеяло).	3	

25	<p><b>Какие из представленных ниже правил оказания первой помощи при ранении глаз являются верными?</b></p> <p>а) промыть повреждённый глаз водой;  б) нельзя промывать повреждённый глаз водой;  в) наложить стерильную повязку на повреждённый глаз;  г) наложить стерильную повязку на два глаза;  д) закапать в повреждённый глаз антибактериальные капли.</p>	2	
<b>Количество баллов</b>		<b>max 30</b>	

**Оценочные баллы:** максимально – 30 баллов;  
фактически набранные баллы за Блок тестирования - \_\_\_\_\_ .

Подпись председателя жюри \_\_\_\_\_

Подписи членов жюри \_\_\_\_\_